


173

F

نام :

نام خانوادگی :

محل امضاء :



173F

صبح جمعه

۹۲/۱۲/۱۶

دفترچه شماره (۱)



جمهوری اسلامی ایران
وزارت علوم، تحقیقات و فناوری
سازمان سنجش آموزش کشور

اگر دانشگاه اصلاح شود مملکت اصلاح می‌شود.
امام خمینی (ره)

آزمون ورودی
دوره‌های دکتری (نیمه متمرکز) داخل
سال ۱۳۹۳

مجموعه مهندسی مکانیک (۸)
مهندسی پزشکی (بیومکانیک) (کد ۲۳۲۸)

مدت پاسخگویی: ۱۵۰ دقیقه

تعداد سؤال: ۴۵

عنوان مواد امتحانی، تعداد و شماره سؤالات

ردیف	مواد امتحانی	تعداد سؤال	از شماره	تا شماره
۱	مجموعه دروس تخصصی (ریاضیات مهندسی - بیومکانیک عمومی، مکانیک سیالات در سیستم‌های بیولوژیکی)	۴۵	۱	۴۵

اسفندماه سال ۱۳۹۲

این آزمون نمره منفی دارد.

استفاده از ماشین حساب مجاز نمی‌باشد.

حق چاپ، تکثیر و انتشار سؤالات به هر روش (الکترونیکی و ...) پس از برگزاری آزمون، برای تمامی اشخاص حقیقی و حقوقی تنها با مجوز این سازمان مجاز می‌باشد و با متخلفین برابر مقررات رفتار می‌شود.

۱- دو جمله‌ی اول غیر صفر بسط مک لورن $f(z) = \sin(\sin z)$ در صفحه‌ی مختلط عبارتست از:

$$z - \frac{z^3}{3} \quad (۱) \quad z + \frac{z^3}{3} \quad (۲)$$

$$z - \frac{z^3}{3!} \quad (۳) \quad z + \frac{z^3}{3!} \quad (۴)$$

۲- با استفاده از روش جداسازی متغیرها $u(x,t) = X(x)T(t)$ در مسأله داده شده، برای $T(t)$ چه جوابی به دست می‌آید؟

$$u_{tt} - u_{xx} - u = 0 \quad 0 < x < 1, t > 0$$

$$u(0,t) = u(1,t) = 0$$

$$u(x,0) = 0 \quad 0 \leq x \leq 1$$

$$\sin(t\sqrt{k^2\pi^2 - 1}) \quad (۲) \quad \sin(t\sqrt{k\pi - 1}) \quad (۱)$$

$$\sin(t(k^2\pi^2 - 1)) \quad (۴) \quad \sin(t(k\pi - 1)) \quad (۳)$$

۳- حاصل انتگرال $\oint_C \frac{dz}{\cosh z}$ که در آن C مربعی در جهت مثلثاتی به رئوس

$(\pm\pi, 0)$ و $(\pm\pi, \pi)$ می‌باشد، کدام است؟

$$-2\pi i \quad (۱) \quad -2\pi \quad (۲)$$

$$2\pi i \quad (۳) \quad 2\pi \quad (۴)$$

۴- در مسأله جریان سیال مشخصی، لاپلاسیان پتانسیل سرعت به صورت

$$\frac{\partial^2 \varphi}{\partial r^2} + \frac{1}{r} \frac{\partial \varphi}{\partial r} + \frac{1}{r^2} \frac{\partial^2 \varphi}{\partial \theta^2} = 0$$

می‌باشد. با استفاده از روش جداسازی متغیرها،

$$\varphi = \sum_{n=0}^{\infty} (A_n r^n + \frac{B_n}{r^n})(C_n \cos n\theta + D_n \sin n\theta)$$

پتانسیل سرعت به شکل

حاصل می‌شود. اگر به ازای تمام مقادیر θ ، شرایط: $r = a$ ، $\frac{\partial \varphi}{\partial r} = 0$ ، و $r = b$ و

$$\frac{\partial \varphi}{\partial r} = U \cos \theta \quad (a > b)$$

و U ثابت) برقرار باشند آنگاه جواب مسأله عبارتست

از:

$$\varphi = \frac{Ub^2}{(b^2 - a^2)} \left(r - \frac{a^2}{r}\right) \cos \theta \quad (۲) \quad \varphi = \frac{Ub^2}{(b^2 - a^2)} \left(r - \frac{a^2}{r}\right) \sin \theta \quad (۱)$$

$$\varphi = \frac{Ub^2}{(b^2 - a^2)} \left(r + \frac{a^2}{r}\right) \sin \theta \quad (۴) \quad \varphi = \frac{Ub^2}{(b^2 - a^2)} \left(r + \frac{a^2}{r}\right) \cos \theta \quad (۳)$$

۵- تبدیل فوریه تابع $f(x) = e^{-|x|}$ به طوری که

$$F(\omega) = \int_0^{\infty} e^{-i\omega x} f(x) dx$$

کدام است؟

$$\frac{2}{1+\omega^2} \quad (2)$$

$$\frac{1}{1+\omega^2} \quad (1)$$

$$\begin{cases} \frac{-1}{1+\omega^2}, & \omega < 0 \\ \frac{1}{1+\omega^2}, & \omega > 0 \end{cases} \quad (4)$$

$$\frac{|\omega|}{1+\omega^2} \quad (3)$$

۶- می دانیم تابع $f(z) = u(r, \theta) + iv(r, \theta)$ در نقطه $z_0 = 1 - i$ تحلیلی است

و $f'(z_0) = 1 + i$ در این صورت مقدار $u_r v_\theta + u_\theta v_r$ در نقطه مذکور کدام

است؟

$$-4i \quad (2)$$

$$-2\sqrt{2}i \quad (1)$$

$$2\sqrt{2} \quad (4)$$

$$\sqrt{2} \quad (3)$$

۷- تصویر ناحیه $x > C_1$ و $y > C_2$ از صفحه z به صفحه $w = u + iv$ تحت

تبدیل (نگاشت) $w = \frac{1}{z}$ در کدام یک از حالات زیر کراندار نیست؟

$$C_2 > 0, C_1 < 0 \quad (2)$$

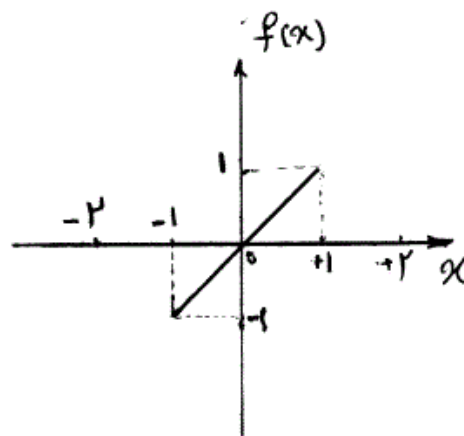
$$C_2 < 0, C_1 < 0 \quad (1)$$

$$C_2 > 0, C_1 > 0 \quad (4)$$

$$C_2 < 0, C_1 > 0 \quad (3)$$

۸- تابع $f(x)$ به شکل زیر مفروض است. اگر $g(x) = \int f(x) dx$ و

$g(0) = -\frac{1}{3}$ ، در این صورت ضریب a_0 در سری فوریه تابع $g(x)$ کدام است؟



$$\frac{-1}{4} \quad (1)$$

$$\frac{-1}{12} \quad (2)$$

$$0 \quad (3)$$

$$\frac{1}{12} \quad (4)$$

۹- تابع مختلط $f(z) = u(r, \theta) + iv(r, \theta)$ در حوزه D که شامل مبدأ نیست
تحلیلی می‌باشد به قسمی که تابع حقیقی v فقط به θ بستگی دارد (یعنی v به
 r بستگی ندارد). در این صورت مقدار کلی تابع u کدام است؟

$$C \ln r \quad (۱)$$

$$C_1 \ln r + C_2 \quad (۲)$$

$$\ln r + C \quad (۳)$$

$$10- \begin{cases} u_{tt} - u_{xx} = \sin^3(\pi x), 0 < x < 1, t > 0 \\ u(x, 0) = 0, u_t(x, 0) = 0, 0 \leq x \leq 1 \\ u(0, t) = 0, u(1, t) = 0, \forall t > 0 \end{cases}$$

با تغییر متغیر تابع $u(x, t) - v(x) = w$ تبدیل می‌شود به مسأله مقدار اولیه
مرزی (۲)

$$\begin{cases} w_{tt} - w_{xx} = 0, 0 < x < 1, t > 0 \\ w(x, 0) = g(x), w_t(x, 0) = 0, 0 \leq x \leq 1 \\ w(0, t) = w(1, t) = 0 \end{cases}$$

که در آن $v(x)$ تابعی است که در معادله دیفرانسیل (۱) و شرایط مرزی آن
صدق می‌کند. مقدار $g(x)$ کدام است؟

$$\frac{-3}{4\pi^2} \sin(\pi x) + \frac{1}{36\pi^2} \sin(3\pi x) \quad (۱)$$

$$\frac{3}{4\pi^2} \sin(\pi x) - \frac{1}{36\pi^2} \sin(3\pi x) \quad (۲)$$

$$\frac{-3}{4} \sin(\pi x) + \frac{1}{36} \sin(3\pi x) \quad (۳)$$

$$\frac{3}{4} \sin(\pi x) - \frac{1}{36} \sin(3\pi x) \quad (۴)$$

۱۱- معادله انتگرالی زیر داده شده است:

$$\int_0^{\infty} [A(\lambda) \cos(\lambda x) + B(\lambda) \sin(\lambda x)] d\lambda = \begin{cases} 0, & x < 0 \\ \frac{\pi}{2}, & x = 0 \\ \pi e^{-x}, & x > 0 \end{cases}$$

مقادیر $A(\lambda)$ و $B(\lambda)$ به ترتیب کدام هستند؟

$$\lambda e^{-\lambda}, e^{-\lambda} \quad (۲) \quad e^{-\lambda}, \lambda e^{-\lambda} \quad (۱)$$

$$\frac{1}{1+\lambda^2}, \frac{\lambda}{\lambda^2+1} \quad (۴) \quad \frac{\lambda}{\lambda^2+1}, \frac{1}{1+\lambda^2} \quad (۳)$$

$$-12 \quad \int_{-\infty}^{+\infty} \frac{y(u)du}{(x-u)^2 + a^2} = \frac{1}{x^2 + b^2}, \quad 0 < a < b \quad \text{در معادله‌ی انتگرالی}$$

$$\int_0^{\infty} \frac{\cos \alpha x}{m^2 + \alpha^2} d\alpha = \frac{\pi}{2m} e^{-mx} \quad \text{پاسخ } y(x) \text{ کدام است؟ (راهنمایی:)}$$

$$y(x) = \frac{(b-a)\alpha}{b\pi[x^2 + (b-a)^2]} \quad (2) \quad y(x) = \frac{(b+a)\alpha}{b\pi[x^2 + (b+a)^2]} \quad (1)$$

$$y(x) = \frac{(a+b)\alpha}{b\pi[x^2 + (a-b)^2]} \quad (4) \quad y(x) = \frac{(a-b)\alpha}{b\pi[x^2 + (a-b)^2]} \quad (3)$$

$$-13 \quad \text{سری فوریه تابع } f(x) = \ln\left(\cos\left(\frac{x}{\gamma}\right)\right), \quad -\pi < x < \pi \quad \text{کدام است؟}$$

$$-\ln \gamma - \sum_{n=1}^{\infty} \frac{(-1)^n}{n+1} \cos nx \quad (2) \quad -\ln \gamma - \sum_{n=1}^{\infty} \frac{(-1)^n}{n} \cos nx \quad (1)$$

$$-\ln \gamma - \sum_{n=1}^{\infty} \frac{(-1)^n}{n^2+1} \cos nx \quad (4) \quad -\ln \gamma - \sum_{n=1}^{\infty} \frac{(-1)^n}{n^2} \cos nx \quad (3)$$

$$-14 \quad \mathcal{L} \left\{ \frac{\gamma}{t} (1 - \cosh(at)) \right\} = \text{Ln} \left(1 - \frac{a^2}{s^2} \right) \quad \text{آنچه آنگاه}$$

$$\mathcal{L} \left\{ \frac{\gamma}{t} (1 - \cos(\omega t)) \right\} \quad \text{کدام است؟}$$

$$\text{Ln} \left(\frac{\omega^2}{s^2} - 1 \right) \quad (2)$$

$$\text{Ln} \left(1 - \frac{\omega^2}{s^2} \right) \quad (1)$$

$$\text{Ln} (1 + \omega^2 s^2) \quad (4)$$

$$\text{Ln} \left(1 + \frac{\omega^2}{s^2} \right) \quad (3)$$

-15 برای جواب مساله‌ی

$$u_{xx} = u_t, \quad 0 \leq x \leq \pi, t \geq 0$$

$$u(0, t) = u(\pi, t) = 0$$

$$u(x, 0) = \sin x + \sin 3x, \quad 0 < x < \pi$$

مقدار $u\left(\frac{\pi}{3}, 1\right)$ کدام است؟

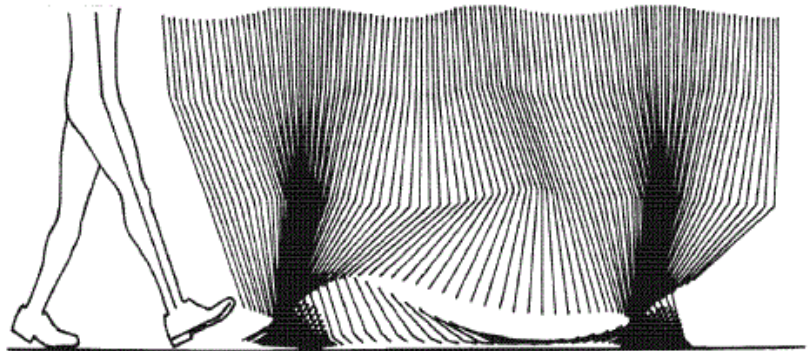
$$e + e^{-2} \quad (2)$$

$$e - e^{-2} \quad (1)$$

$$\frac{e^{10} - 1}{e^9} \quad (4)$$

$$\frac{e^{10} + 1}{e^9} \quad (3)$$

۱۶- با توجه به نمودار داده شده سرعت در کدام حالت بیش تر است؟



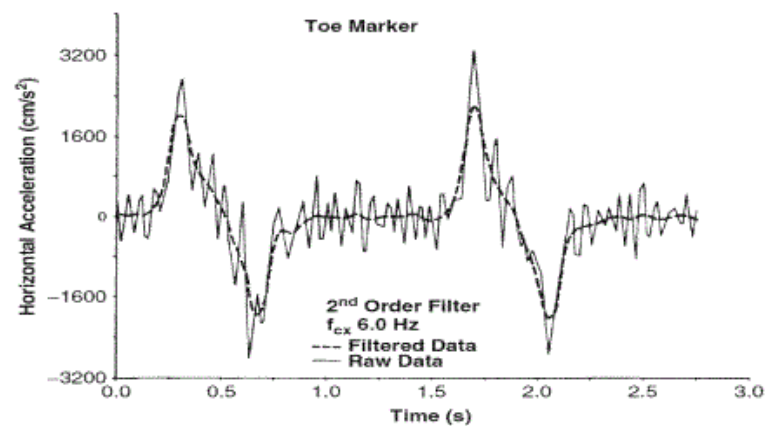
(۱) مفصل زانو در لحظه Toe Off

(۲) مفصل مچ پا در لحظه Toe Off

(۳) مفصل زانو در لحظه Mid Swing

(۴) مفصل مچ پا در لحظه Mid Swing

۱۷- در شکل زیر فیلتر به طور عمده اثر کدام عامل را خنثی می کند؟



(۱) مشتق گیری از تابع گسسته

(۲) لرزش های غیرارادی مفاصل

(۳) کم بودن فرکانس نمونه گیری

(۴) زیاد بودن فرکانس نمونه گیری

۱۸- موقعیت قدامی - خلفی مفصل زانو در سه فریم متوالی ۱۲۵، ۱۳۰ و ۱۳۱ میلی متر

است. اگر فرکانس نمونه برداری ۲۰۰ هرتز باشد، سرعت مفصل با استفاده از

رابطه مشتق گیری مرکزی چند متر بر ثانیه است؟

(۱) ۰/۱

(۲) ۰/۶

(۳) ۱

(۴) ۱/۲

۱۹- در یک آزمایش EMG با فرکانس ۲۰۰۰ هرتز نمونه برداری و با فرکانس قطع

(Cutoff) ۴۰۰ هرتز تحلیل شده است. اگر فاکتور تصحیح (Correction factor

for number of passes required) یک فرض شود، ضریب فیلتر ω_c

(Coefficients for a Butterworth or a critically damped filter) چه

مقدار است؟

(۱) $\frac{\pi}{6}$

(۲) $\frac{\sqrt{5}}{2}$

(۳) $\frac{1}{5}$

(۴) $\frac{\sqrt{3}}{2}$

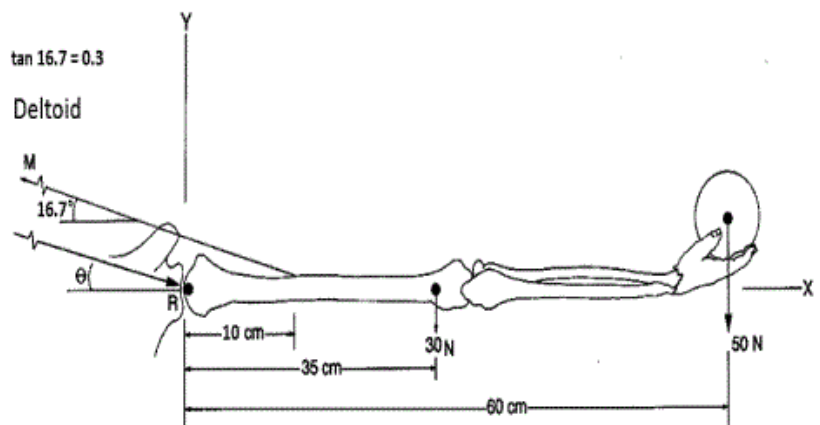
۲۰- کدام عامل تاثیر بیش تری در افزایش نیروی وارد بر مفصل زانو در حین راه رفتن طبیعی دارد؟

- (۱) قرارگرفتن مفصل در حداکثر زاویه فلکشن
 - (۲) قرارگرفتن مفصل در حداکثر زاویه اکستنشن
 - (۳) هم انقباضی عضلات باز و بسته کننده زانو
 - (۴) افزایش سرعت مرکز ثقل در راستای وزن بدن
- ۲۱- در میانه فاز ایستایش (Stance)، نیروی عکس‌العمل زمین کم‌تر از وزن بدن است. کدام عامل در این کاهش نقش بیش تری دارد؟

- (۱) اجتناب از پایبنداری در راستای وزن
 - (۲) تغییر اینرسی خطی در راستای وزن
 - (۳) جلوگیری از ضربه قائم وارد بر بدن
 - (۴) ایجاد توازن بین نیروی عکس‌العمل زمین و وزن
- ۲۲- کدام روش برآورد دقیق تری از تبادلات انرژی مکانیکی در سیستم اسکلتی عضلانی مفصل زانو در هنگام راه رفتن است؟

- (۱) روش تحلیل مفصلی $(\int M_j \omega_j dt)$
 - (۲) روش تحلیل عضلانی $(\int F_m V_m dt)$
 - (۳) روش تحلیل تبادل انرژی جنبشی و پتانسیل $(\Delta PE, \Delta KE)$
 - (۴) روش تحلیل مجموع انرژی اعضاء $(\sum \text{Segment energies})$
- ۲۳- گشتاور مفصلی در هنگام راه رفتن در کدام حالت دارای مقدار حداکثر بزرگ تری است؟

- (۱) گشتاور چرخشی مفصل ران در صفحه ترانسورس
 - (۲) گشتاور چرخشی مفصل زانو در صفحه ترانسورس
 - (۳) گشتاور اکستنسوری مفصل ران در صفحه ساجیتال
 - (۴) گشتاور اکستنسوری مفصل زانو در صفحه ساجیتال
- ۲۴- در شکل زیر نیروی عضله دلتوئید چند نیوتن است؟



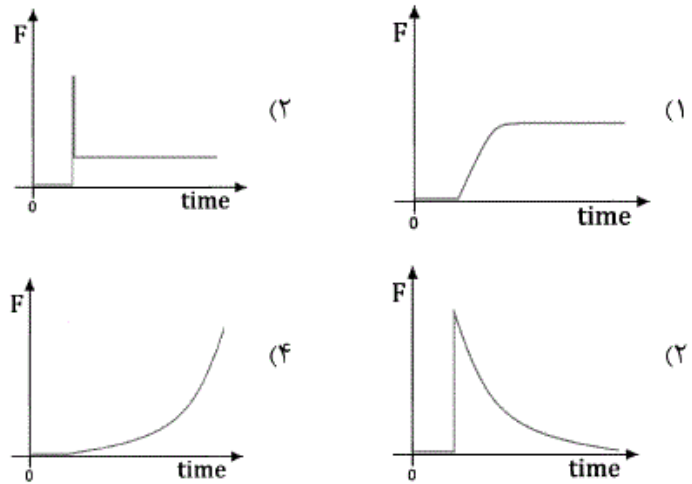
(۱) ۳۳۳

(۲) ۱۰۰۰

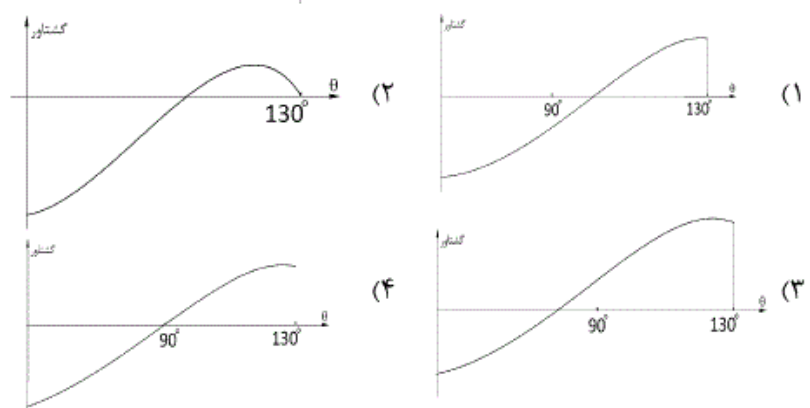
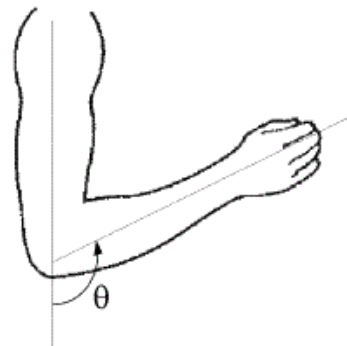
(۳) ۱۳۵۰

(۴) ۱۴۰۰

۲۵- اگر ورودی مدل بافت، جابجایی پله‌ای باشد، خروجی نیرو برای مدل ماکسول کدام است؟



۲۶- از مفصل آرنج تست CPM یا (Continuous Passive Motion) در سرعت ۴۵ درجه بر ثانیه گرفتیم، حرکت از 0° تا 130° درجه در صفحه Saggital انجام شد. منحنی گشتاور بدست آمده به کدام گزینه شبیه می‌باشد؟



۲۷- در یک عضله‌ی پر شکل، زاویه پرها با راستای طولی دو انتهای تاندونی $36/87$ درجه، جرم فیبرهای عضلانی 100 گرم و طول فیبرهای عضلانی 5 سانتیمتر می‌باشد. سطح مقطع فیزیولوژیک عضله چند سانتی‌متر مربع است؟ (دانسیته عضله یک گرم بر سانتی‌متر مکعب فرض شود).

- (۱) ۸
(۲) $8/66$
(۳) ۱۶
(۴) $17/32$

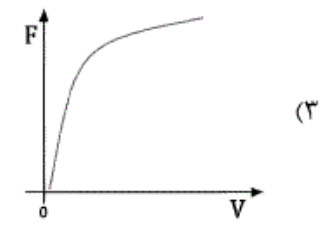
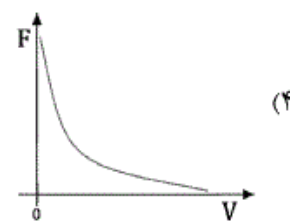
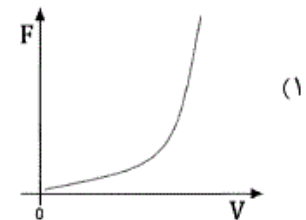
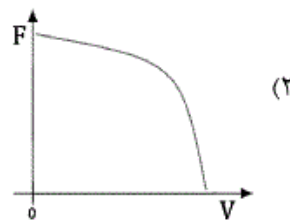
۲۸- برای ثبت واضح ترین سیگنال EMG مکان الکتروود گذاری بر روی کدام نقاط عضله است؟

- (۱) بالک عضله و انتهای دیستال
- (۲) دو سوی بالک عضله
- (۳) بالک عضله و انتهای پروکسیمال
- (۴) انتهای دیستال و پروکسیمال عضله

۲۹- شخصی به قد ۱۸۰ سانتی متر بر روی سطح افقی کاملاً صاف ایستاده است. در لحظه ای که در راستای قدامی - خلفی مرکز فشار ۲ سانتی متر جلوتر از مرکز ثقل قرار گرفته است، مولفه قدامی - خلفی شتاب مرکز ثقل چند متر بر مجذور ثانیه است؟ شعاع چرخش بدن حول کف پا یک متر فرض شود. مرکز ثقل بدن در وسط قد فرض شود.

- (۱) ۹/۸۱
- (۲) ۲
- (۳) ۰/۱۸
- (۴) ۰/۰۱۸

۳۰- نمودار نیرو - سرعت عضله اسکلتی کدام است؟



۳۱- قطر یک رگ به دلیل تشکیل پلاک، بیست درصد کاهش یافته است. برای عبور دبی خون اولیه با فرض ثابت بودن سایر متغیرها اختلاف فشار طرفین مجرا با چه نسبتی باید افزایش یابد؟

$$(1) \quad 1/2 \quad (2) \quad 1/8$$

$$(3) \quad 3 \quad (4) \quad 2/44$$

۳۲- اگر تنش برشی در جریان خون با نرخ برش $1s^{-1}$ برابر 0.25 dynes/cm^2 و تنش تسلیم 0.04 dynes/cm^2 باشد، با چهار برابر شدن نرخ برش، بر اساس مدل کاسن (Casson) تنش برشی چند دین بر سانتی متر مربع خواهد شد؟

$$(1) \quad 0.5 \quad (2) \quad 0.64$$

$$(3) \quad 0.8 \quad (4) \quad 1$$

۳۳- کدام مدل ریاضی رفتار سیال دوفازی خون با ناحیه تهی از پلاسما را توصیف نمی‌کند؟

$$(1) \quad \text{مدل کاسن} \quad (2) \quad \text{مدل هاینس}$$

$$(3) \quad \text{مدل سیگما} \quad (4) \quad \text{مدل وایتمور}$$

۳۴- شعاع شریان آئورت در خرگوش $3/5 \text{ mm}$ است. قلب خرگوش 210 ضربان بر دقیقه دارد. با فرض جرم حجمی 1060 kg/m^3 و ویسکوزیته 0.004 Ns/m^2 برای خون، عدد بی بعد وومرزی (Womersley Number) (α) کدام است؟

$$(1) \quad 52/2 \quad (2) \quad 26/1$$

$$(3) \quad 17 \quad (4) \quad 8/5$$

۳۵- معادله خط اثر برای میدان جریان
$$\begin{cases} u = x(1+2t) \\ v = y \\ w = 0 \end{cases}$$
 برابر است با:

$$(1) \quad x = y^{1+\ln y} \quad (2) \quad x = y^{1-\ln y}$$

$$(3) \quad y = x^{1+\ln y} \quad (4) \quad y = x^{1-\ln y}$$

۳۶- در یک جریان تراکم ناپذیر، اگر u بردار سرعت و w بردار چرخش باشند، مقدار عبارت $\frac{1}{\rho} \nabla^2 (u \cdot u) - u \cdot (\nabla^2 u) - w \cdot w$ برابر است با:

$$(1) \quad \nabla \cdot [\nabla \cdot u] \quad (2) \quad \nabla \cdot [(u \cdot \nabla) u]$$

$$(3) \quad \nabla [u \cdot \nabla] u^2 \quad (4) \quad \nabla^2 [(u \cdot \nabla) u]$$

۳۷- اگر تابع Complex potential برابر $F(z) = u \cdot e^{i\theta} + \mu \cdot e^{-i\theta}$ بر روی یک دایره به شعاع یک متر، مقدار تابع stream برابر است با:

$$(1) \quad \psi = (u - \mu) \sin \theta \quad (2) \quad \psi = (u + \mu) \sin \theta$$

$$(3) \quad \psi = (u - \mu) \cos \theta \quad (4) \quad \psi = (u + \mu) \sin \theta$$

۳۸- یک Doublet با قدرت μ در فاصله 2^m از مرکز کره‌ای به شعاع 1^m قرار دارد، نیروی وارد از طرف این Doublet (در امتداد محور x) بر کره برابر است با: (جرم حجمی جریان ρ است.)

$$\frac{\rho\mu^2}{9\pi} \quad (2) \qquad \frac{\rho\mu^2}{27\pi} \quad (1)$$

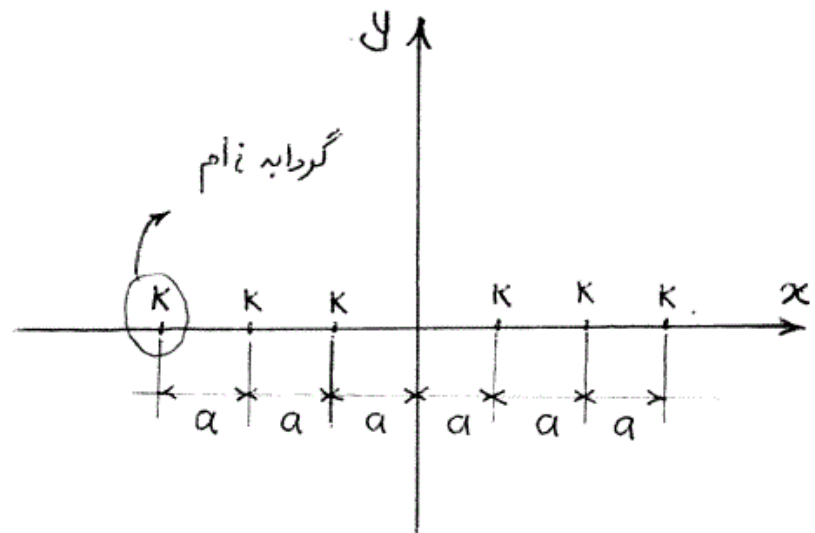
$$\frac{\rho\mu^2}{\pi} \quad (4) \qquad \frac{\rho\mu^2}{3\pi} \quad (3)$$

۳۹- یک صفحه تخت عمود بر جهت جریان قرار دارد و فشار و سرعت جریان برابر p_∞ و u_∞ می باشد. ضریب نیروی مقاوم تقریباً برابر است با:

$$2 \quad (2) \qquad 2/5 \quad (1)$$

$$1 \quad (4) \qquad 1/17 \quad (3)$$

۴۰- تعداد بی‌نهایت گردابه در امتداد محور x و به فاصله a از یکدیگر قرار دارند، اگر تابع جریان برای گردابه نام برابر $\psi_i = -k \ln r_i$ باشد، برای نقاط $y \gg a$ مقدار سرعت u برابر است با:



$$\pm \frac{2\pi k}{a} \quad (2) \qquad \pm \frac{2\pi k}{a} \quad (1)$$

$$0 \quad (4) \qquad \pm \frac{\pi k}{a} \quad (3)$$

۴۱- در یک شریان، چنانچه هماتوکریت خون متغیر اما کمتر از ۱۰٪ باشد، با افزایش سرعت متوسط جریان خون، ویسکوزیته خون:

(۱) با تغییر هماتوکریت، تغییر نمی کند.

(۲) با افزایش هماتوکریت، کاهش می یابد.

(۳) با افزایش هماتوکریت، افزایش می یابد.

(۴) بدون در نظر گرفتن قطر شریان، نمی توان اظهار نظر کرد.

- ۴۲- هنگامی که خون در یک شریان جریان دارد، کدام عبارت صحیح است:
- (۱) تجمع گلبول‌های قرمز در نرخ‌های کرنش برشی بالا، باعث کاهش ویسکوزیته خون می‌شود.
 - (۲) تجمع گلبول‌های قرمز در نرخ‌های کرنش برشی پایین، باعث افزایش ویسکوزیته خون می‌شود.
 - (۳) تغییر شکل گلبول‌های قرمز در نرخ‌های کرنش برشی بالا، باعث افزایش ویسکوزیته خون می‌شود.
 - (۴) تغییر شکل گلبول‌های قرمز در نرخ‌های کرنش برشی پایین، باعث کاهش ویسکوزیته خون می‌شود.
- ۴۳- هنگامی که فشار خون در یک شریان در بازه فیزیولوژیک قرار دارد، رابطه تغییرات فشار خون با کامپلیانس شریان به کدام صورت زیر است؟ (کامپلیانس (C) عبارت است از نسبت تغییرات سطح مقطع شریان (A) به فشار درون آن (P))
- (۱) رابطه مشخصی وجود ندارد. $C \approx P^2$ (۲)
 - (۳) $C \approx P$ (۴) $C \approx P^{0.5}$
- ۴۴- در جریان ضربانی خون، هنگامی که عدد **Womersley** افزایش می‌یابد، کدام عبارت نادرست است:
- (۱) اثر ویسکوزیته خون در جریان نواحی نزدیک دیواره بیشتر است.
 - (۲) در نواحی مرکزی رگ، تغییرات سرعت به مراتب کمتر است.
 - (۳) عدد **Reynolds** بحرانی افزایش می‌یابد.
 - (۴) تنش برشی روی دیواره رگ افزایش می‌یابد.
- ۴۵- در یک شریانچه که قطر آن اندکی از قطر **RBC** بیشتر است، هنگامی که یک **RBC** به انشقاقی می‌رسد، وارد کدام شاخه از انشقاق می‌شود:
- (۱) وابسته به الگوی جریان است.
 - (۲) شاخه‌ای که قطر آن کمتر است.
 - (۳) شاخه‌ای که فشار خون در آن کمتر است.
 - (۴) شاخه‌ای که سرعت خون در آن کمتر است.