


کد کنترل

534

C



534C

آزمون ورودی دوره‌های کارشناسی ارشد ناپیوسته - سال ۱۴۰۴

صبح جمعه

۱۴۰۳/۱۲/۰۳



جمهوری اسلامی ایران
وزارت علوم، تحقیقات و فناوری
سازمان سنجش آموزش کشور

«علم و تحقیق، کلید پیشرفت کشور است.»
مقام معظم رهبری

ریاضی (کد ۱۲۰۸)

مدت زمان پاسخگویی: ۲۵۰ دقیقه

تعداد سؤال: ۱۴۵ سؤال

عنوان مواد امتحانی، تعداد و شماره سؤال‌ها

ردیف	مواد امتحانی	تعداد سؤال	از شماره	تا شماره
۱	زبان عمومی و تخصصی (انگلیسی)	۲۵	۱	۲۵
۲	دروس پایه (ریاضی عمومی (۱ و ۲)، معادلات دیفرانسیل، مبانی علوم ریاضی، مبانی ماتریس‌ها و جبر خطی، مبانی آنالیز ریاضی، مبانی آنالیز عددی و مبانی احتمال)	۴۰	۲۶	۶۵
۳	آنالیز ریاضی	۲۰	۶۶	۸۵
۴	مبانی جبر و مبانی ترکیبیات	۲۰	۸۶	۱۰۵
۵	جبر خطی عددی، بهینه‌سازی خطی و نظریه مقدماتی معادلات دیفرانسیل	۲۰	۱۰۶	۱۲۵
۶	احتمال (۱ و ۲) و فرایندهای تصادفی ۱	۲۰	۱۲۶	۱۴۵

این آزمون نمره منفی دارد.

استفاده از ماشین حساب مجاز نیست.

حق چاپ، تکثیر و انتشار سؤالات به هر روش (الکترونیکی و...) پس از برگزاری آزمون، برای تمامی اشخاص حقیقی و حقوقی تنها با مجوز این سازمان مجاز می‌باشد و با متخلفین برابر مقررات رفتار می‌شود.

* داوطلب گرامی، عدم درج مشخصات و امضا در مندرجات کادر زیر، به منزله عدم حضور شما در جلسه آزمون است.

اینجانب با شماره داوطلبی با آگاهی کامل، یکسان بودن شماره صندلی خود با شماره داوطلبی مندرج در بالای کارت ورود به جلسه، بالای پاسخنامه و دفترچه سؤالات، نوع و کد کنترل درج شده بر روی جلد دفترچه سؤالات و پایین پاسخنامه ام را تأیید می‌نمایم.

امضا:

زبان عمومی و تخصصی (انگلیسی):

PART A: Vocabulary

Directions: Choose the word or phrase (1), (2), (3), or (4) that best completes each sentence. Then mark the answer on your answer sheet.

- 1- My mother was a very strong, woman who was a real adventurer in love with the arts and sports.

1) consecutive	2) independent
3) enforced	4) subsequent
- 2- The weakened ozone, which is vital to protecting life on Earth, is on track to be restored to full strength within decades.

1) layer	2) level
3) brim	4) ingredient
- 3- Reading about the extensive food directives some parents leave for their babysitters, I was wondering if these lists are meant to ease feeling for leaving the children in someone else's care.

1) an affectionate	2) a misguided
3) an undisturbed	4) a guilty
- 4- He is struck deaf by disease at an early age, but in rigorous and refreshingly unsentimental fashion, he learns to overcome his so that he can keep alive the dream of becoming a physician like his father.

1) ambition	2) incompatibility
3) handicap	4) roughness
- 5- With cloak and suit manufacturers beginning to their needs for the fall season, trading in the wool goods market showed signs of improvement this week.

1) anticipate	2) nullify
3) revile	4) compliment
- 6- Sculptors leave highly footprints in the sand of time, and millions of people who never heard the name of Augustus Saint-Gaudens are well-acquainted with his two statues of Lincoln.

1) insipid	2) sinister
3) conspicuous	4) reclusive
- 7- To avoid liability, officers were told that they need to closely to established department rules and demonstrate that probable cause for an arrest or the issuance of a summons existed.

1) recapitulate	2) confide
3) hinder	4) adhere

- 18- According to paragraph 2, prior to the 16th century, the solution of third- and fourth-degree equations was
- 1) forgotten and in part irrevocably lost during the Middle Ages
 - 2) the only mathematical achievement of the Middle Ages
 - 3) discovered by Gerolamo Cardano in his *Ars Magna*
 - 4) unknown to Eastern and Western mathematicians alike
- 19- According to the passage, which of the following statements is NOT true?
- 1) Science can abruptly decline and the loss may need centuries to amend.
 - 2) Leonardo of Pisa and Fibonacci were two contemporary mathematicians.
 - 3) European mathematics was more or less unproductive for about 300 years.
 - 4) Oriental texts helped Europeans in learning their own mathematics as well.
- 20- The passage provides sufficient information to answer which of the following questions?
- 1) What are some of Felix Klein's mathematical achievements?
 - 2) In which year did Fibonacci develop his remarkable numerical sequence?
 - 3) Why did Gerolamo Cardano call his book *The Great Art*?
 - 4) In what era did Western mathematics experience a long period of inactivity?

PASSAGE 3:

The human brain is unique in the animal kingdom in its ability to gain access to abstract mathematical truths. How this singular cognitive ability evolved in the primate lineage is currently unknown. According to one hypothesis, mathematics, like other cultural abilities that appeared suddenly with modern humans in the upper Paleolithic, is an offshoot of the human language faculty—for Noam Chomsky, for instance, “the origin of the mathematical capacity [lies in] an abstraction from linguistic operations”. Many mathematicians and physicists, however, disagree and insist that mathematical reflection is primarily nonlinguistic—Albert Einstein, for instance, stated: “Words and language, whether written or spoken, do not seem to play any part in my thought processes.” [1]

[2] An alternative to the language hypothesis has emerged from recent cognitive neuroscience research, according to which mathematics arose from an abstraction over evolutionarily ancient and nonlinguistic intuitions of space, time, and number. Indeed, even infants and uneducated adults with a drastically impoverished language for mathematics may possess abstract proto-mathematical intuitions of number, space, and time. Such “core knowledge” is predictive of later mathematical skills and may therefore serve as a foundation for the construction of abstract mathematical concepts. [3]

Linguistic symbols may play a role, possibly transiently, in the scaffolding process by which core systems are orchestrated and integrated. Furthermore, mathematics encompasses multiple domains, and it seems possible that only some of them may depend on language. [4] For instance, geometry and topology arguably call primarily upon visuospatial skills whereas algebra, with its nested structures akin to natural language syntax, might putatively build upon language skills.

- 21- The underlined word “transiently” in paragraph 3 is closest in meaning to
- | | |
|----------------|----------------|
| 1) equivocally | 2) tenaciously |
| 3) fleetingly | 4) sagaciously |

- 22- According to the passage, “core knowledge” intuitions of number, space, and time
- 1) indicate a drastically impoverished language
 - 2) obstruct mathematical concept formation
 - 3) only emerge in infants and uneducated adults
 - 4) anticipate future mathematical capacities
- 23- According to the passage, which of the following statements is true?
- 1) Chomsky and Einstein respectively represent the core-knowledge and linguistic hypotheses about mathematical skills.
 - 2) Only two hypotheses regarding the acquisition of mathematical capacities in human beings exist.
 - 3) The manner of evolution of mathematical skills in primitive human beings has not yet been discovered.
 - 4) Geometry and algebra are areas of mathematics which rely upon visuospatial skills rather than linguistic syntax.
- 24- Which of the following statements can best be inferred from the passage?
- 1) The linguistic and core-knowledge hypotheses are not necessarily mutually exclusive.
 - 2) The origin and evolution of mathematical skills are the most significant concerns of modern mathematics.
 - 3) Advanced mathematical skills are by no means confined to human beings.
 - 4) Debates about the origin and evolution of mathematical skills are as old as the discipline itself.
- 25- In which position marked by [1], [2], [3] and [4], can the following sentence best be inserted in the passage?
- Advanced mathematics would arise from core representations of number and space through the drawing of a series of systematic links, analogies, and inductive generalizations.**
- 1) [1] 2) [2] 3) [3] 4) [4]

دروس پایه (ریاضی عمومی ۱ و ۲)، معادلات دیفرانسیل، مبانی علوم ریاضی، مبانی ماتریس‌ها و جبر خطی، مبانی آنالیز ریاضی، مبانی آنالیز عددی و مبانی احتمال):

۲۶- فرض کنید تابع f در دامنه تعریف خود، اکیداً نزولی باشد و $f(x) = 6f(x) + x^2 - 4x - 5$. مقدار

$$\lim_{x \rightarrow 4} \frac{(x^2 - 3x - 4)f(x)}{f(f(x)) - f(1)}$$

۵ (۱)

۴ (۲)

۳ (۳)

صفر (۴)

۲۷- تابع $f: \mathbb{R} \rightarrow \mathbb{R}$ تعریف شده و در شرط $\lim_{h \rightarrow 0} (f(1+h) - f(1-h)) = 0$ صدق می‌کند. کدام مورد درست است؟

(۱) اگر تابع f کران‌دار باشد، آنگاه $\lim_{x \rightarrow 1} f(x)$ موجود و متناهی است.

(۲) اگر تابع f در هر همسایگی $x = 1$ بی‌کران باشد، آنگاه مقدار $\lim_{x \rightarrow 1} f(x)$ برابر $+\infty$ یا $-\infty$ است.

(۳) تابع f در $x = 1$ پیوسته است.

(۴) در خصوص وجود یا عدم وجود حد تابع f در $x = 1$ ، نمی‌توان اظهارنظر کرد.

۲۸- دنباله $x_n = \left(\frac{2}{1}\right)^1 \left(\frac{3}{2}\right)^2 \left(\frac{4}{3}\right)^3 \dots \left(\frac{n+1}{n}\right)^n$ به ازای $n \in \mathbb{N}$ مفروض است. مقدار $\lim_{n \rightarrow \infty} \sqrt[n]{x_n}$ کدام است؟

(۱) \sqrt{e}

(۲) e

(۳) $e\sqrt{e}$

(۴) e^2

۲۹- در مختصات قطبی (r, θ) ، با فرض $r \neq 0$ ، کدام مورد درست است؟ $(r_{xx} = \frac{\partial^2 r}{\partial x^2})$

(۱) $r_{xx} = r \sin^2 \theta$

(۲) $r_{xx} = r \cos^2 \theta$

(۳) $r r_{xx} = \cos^2 \theta$

(۴) $r r_{xx} = \sin^2 \theta$

۳۰- فرض کنید f روی $(0, \infty)$ پیوسته باشد. کدام مورد درست است؟

(۱) اگر $\int_1^{\infty} f(x) dx$ همگرا باشد، آنگاه $\int_0^{\infty} f(x) dx$ همگرا است.

(۲) اگر $\int_0^{\infty} x f(x) dx$ همگرا باشد، آنگاه $\int_0^{\infty} f(x) dx$ همگرا است.

(۳) اگر $\int_1^{\infty} \frac{1}{1+f^2(x)} dx$ همگرا باشد، آنگاه $\int_0^{\infty} \frac{1}{1+f^2(x)} dx$ همگرا است.

(۴) اگر $\int_0^{\infty} f^2(x) dx$ همگرا باشد، آنگاه $\int_0^{\infty} f(x) dx$ همگرا است.

۳۱- اگر $\int_0^{\infty} \frac{dx}{x^4+1} = \frac{\pi}{2\sqrt{2}}$ ، آنگاه مقدار $\int_0^{\infty} \frac{x^2+1}{x^4+1} dx$ کدام است؟

(۱) $\frac{\pi}{2}$

(۲) $\frac{\pi}{\sqrt{2}}$

(۳) $\sqrt{2}\pi$

(۴) 2π

۳۲- مساحت رویه حاصل از دوران خم $x = 3t^2$ و $y = 2t^3$ حول محور y ها، در بازه $t \in [0, 1]$ ، کدام است؟

(۱) $\frac{12\pi(\sqrt{2}-1)}{5}$

(۲) $\frac{24\pi(\sqrt{2}-1)}{5}$

(۳) $\frac{12\pi(\sqrt{2}+1)}{5}$

(۴) $\frac{24\pi(\sqrt{2}+1)}{5}$

۳۳- مساحت ناحیه درون منحنی $2x^2 + xy + 2y^2 = 2$ ، کدام است؟

(۱) $\frac{4\pi}{\sqrt{15}}$

(۲) $\frac{4\pi}{3\sqrt{7}}$

(۳) $\frac{2\pi}{3}$

(۴) $\frac{\pi}{4}$

۳۴- تابع $f(t) = \iint_{x^2+y^2 \leq t^2} \sqrt{\frac{t^\alpha}{x^2+y^2}} dx dy$ ، روی اعداد حقیقی نامنفی مفروض است. کدام مورد در خصوص حد راست

تابع f در $t = 0$ درست است؟

(۱) تابع f فقط به ازای $\alpha = 0$ ، دارای حد راست غیرصفر است.

(۲) تابع f به ازای $\alpha \geq 0$ ، دارای حد راست غیرصفر است.

(۳) تابع f فقط به ازای $\alpha = -2$ ، دارای حد راست غیرصفر است.

(۴) تابع f به ازای $\alpha \leq -2$ ، دارای حد راست غیرصفر است.

۳۵- مقدار $\int_C \frac{xdy + ydx}{\sqrt{4-x^2-y^2}}$ ، که در آن C پاره خط گذرا از نقطه $(-1, 1)$ به $(1, 1)$ می باشد، کدام است؟

(۱) $\frac{\pi}{3}$

(۲) $\frac{\pi}{2}$

(۳) $\frac{2\pi}{3}$

(۴) π

۳۶- فرض کنید سری توانی $y(x) = \sum_{n=0}^{\infty} a_n x^{n+\frac{1}{2}}$ یکی از جواب های معادله دیفرانسیل

$Ax^2y'' - Bx(x+1)y' + y = 0$ به ازای $A \neq 0$ باشد. کدام مورد درست است؟

(۱) $A - 2B = 2$

(۲) $A + 2B = 2$

(۳) $A - 2B = 4$

(۴) $A + 2B = 4$

۳۷- اگر $Dy = y'$ ، آنگاه جواب خصوصی معادله دیفرانسیل $D(D^2 + 2D + 2)y = 4e^{-x} \sin x$ ، کدام است؟

(۱) $y = xe^{-x}(\cos x + \sin x)$

(۲) $y = xe^{-x}(\cos x - \sin x)$

(۳) $y = xe^{-x}(\sin x - \cos x)$

(۴) $y = -xe^{-x}(\sin x + \cos x)$

۳۸- معادله دیفرانسیل $(Ax+1)^2 y'' + (9x-2B)y' + y = 0$ دارای جواب $y = \sin\left(\frac{1}{3} \ln(Ax+1)\right)$ است. مقادیر A و B کدام‌اند؟

(۱) $A = \pm 3$ و $B = \mp \frac{3}{2}$ به طوری که $AB < 0$.

(۲) $A = \pm \frac{3}{2}$ و $B = \mp 3$ به طوری که $AB < 0$.

(۳) $A = \pm 3$ و $B = \pm \frac{3}{2}$ به طوری که $AB > 0$.

(۴) $A = \pm \frac{3}{2}$ و $B = \pm 3$ به طوری که $AB > 0$.

۳۹- جواب خصوصی معادله دیفرانسیل $(1+x^2)^{\frac{3}{2}} \frac{dy}{dx} + xy^2 = (1+x^2)^{\frac{3}{2}}$ که از مبدأ مختصات می‌گذرد، کدام است؟

(۱) $y^2 = \frac{x^2 - 3x}{3\sqrt{x^2+1}}$

(۲) $y^2 = \frac{x^2 - 2x}{2\sqrt{x^2+1}}$

(۳) $y^2 = \frac{x^2 + 3x}{3\sqrt{x^2+1}}$

(۴) $y^2 = \frac{x^2 + 2x}{2\sqrt{x^2+1}}$

۴۰- فرض کنید $\int_0^x \sin(x-u)y'(u)du = \cos x + y'' + y'$ و $y(0) = y'(0) = 0$. $y'(x)$ کدام است؟

(۱) $e^{-\frac{1}{2}x} \left(\cos\left(\frac{\sqrt{3}}{2}x\right) - 1 \right)$

(۲) $\frac{2}{\sqrt{3}} e^{-\frac{1}{2}x} \sin\left(\frac{\sqrt{3}}{2}x\right)$

(۳) $e^{\frac{1}{2}x} \left(\cos\left(\frac{\sqrt{3}}{2}x\right) - 1 \right)$

(۴) $\frac{2}{\sqrt{3}} e^{\frac{1}{2}x} \sin\left(\frac{\sqrt{3}}{2}x\right)$

۴۱- با فرض آنکه p , q و r حروف گزاره‌ای باشند، کدام یک از گزینه‌ها معادل $r \Rightarrow (p \vee q)$ نیست؟ (نماد \neg ، نمایش نقیض است.)

(۱) $(r \vee \neg p) \wedge (r \vee \neg q)$

(۲) $(p \Rightarrow r) \wedge (q \Rightarrow r)$

(۳) $\neg(p \vee q) \vee r$

(۴) $(p \Rightarrow r) \vee (q \Rightarrow r)$

۴۲- نقیض گزاره زیر کدام است؟

«به ازای هر دو عدد اصلی α و β اگر $\alpha < \beta$ آنگاه یک عدد اصلی مانند γ یافت می‌شود که $\alpha < \gamma < \beta$ ».

$$(۱) \exists \alpha \exists \beta (\alpha < \beta \wedge \exists \gamma (\beta \leq \gamma))$$

$$(۲) \exists \alpha \exists \beta (\alpha < \beta \Rightarrow \forall \gamma (\gamma \leq \alpha \vee \beta \leq \gamma))$$

$$(۳) \exists \alpha \exists \beta (\alpha < \beta \wedge \forall \gamma (\gamma \leq \alpha \vee \beta \leq \gamma))$$

$$(۴) \forall \alpha \exists \beta (\alpha < \beta \wedge \forall \gamma (\gamma \leq \alpha \vee \beta \leq \gamma))$$

۴۳- اگر A زیرمجموعه شمارا و B زیرمجموعه ناشمارایی از \mathbb{R} باشند، کدام مجموعه قطعاً ناشماراست؟

$$(۱) A^c \cap B$$

$$(۲) A \cap B$$

$$(۳) A \cup B^c$$

$$(۴) A \cap B^c$$

۴۴- فرض کنید k عددی طبیعی و R رابطه‌ای بر مجموعه اعداد صحیح \mathbb{Z} باشد که با ضابطه زیر تعریف می‌شود:

به‌ازای $a, b \in \mathbb{Z}$ ، گوییم aRb اگر $a - b$ مضربی از k باشد. کدام گزینه نادرست است؟

(۱) R رابطه هم‌ارزی است.

(۲) R مجموعه \mathbb{Z} را به K رده هم‌ارزی افراز می‌کند.

(۳) رابطه R بازتابی و متقارن است ولی متعدی نیست.

(۴) رده‌های هم‌ارزی رابطه هم‌ارزی R به صورت $[a] = a + k\mathbb{Z}$ هستند.

۴۵- فرض کنید $f: A \rightarrow B$ که A و B مجموعه‌های نامتناهی هستند و عدد اصلی (کاردینال) A بزرگتر از عدد اصلی B است. کدام گزینه درست است؟

(۱) تابع f نمی‌تواند دوسویی باشد.

(۲) تابع f نمی‌تواند پوشا باشد.

(۳) تابع f می‌تواند یک به یک باشد.

(۴) تعداد توابع $f: A \rightarrow B$ برابر $|A|^{|B|}$ است، که $|A|$ نماد عدد اصلی است.

۴۶- فرض کنید A ماتریسی $n \times n$ باشد، به‌طوری‌که برای هر ماتریس B با اثر صفر داشته باشیم $\text{tr}(BA) = 0$. در

این صورت، A چگونه ماتریسی است؟

(۱) قطری (۲) همانی (۳) بالا مثلثی (۴) پایین مثلثی

۴۷- کدام یک از گزاره‌های زیر، در مورد ماتریس‌های متشابه درست نیست؟

(۱) اگر A متشابه با B باشد، آنگاه A^n متشابه با B^n است به‌ازای هر n متعلق به مجموعه اعداد طبیعی

(۲) اگر A متشابه با B باشد، آنگاه $\text{tr}(A) = \text{tr}(B)$

(۳) هر ماتریس با ترانهاده خودش متشابه است.

(۴) AB با ماتریس BA متشابه است.

۴۸- فرض کنید $T: V \rightarrow W$ یک تبدیل خطی باشد. اگر $\dim T(V) = 1$ ، $\dim \ker T = 2$ و $\dim W = 4$. در

این صورت، کدام مورد درست است؟

(۱) هر پایه V ، دو عضوی است.

(۲) V ، یک پایه سه‌عضوی دارد.

(۳) V ، یک فضای برداری ۴ بُعدی است.

(۴) V ، دو پایه دو‌عضوی و یک پایه سه‌عضوی دارد.

۴۹- فرض کنید ماتریس $A = \begin{bmatrix} 5 & 7 \\ 2 & 3 \end{bmatrix}$ و λ_1 و λ_2 مقادیر ویژه آن باشند. حاصل $\lambda_1^2 + \lambda_2^2$ ، کدام است؟

(۱) ۷۲

(۲) ۶۴

(۳) ۶۲

(۴) ۳۴

۵۰- فرض کنید $P_n[x]$ فضای برداری چندجمله‌ای‌های از درجه حداکثر n با ضرایب حقیقی باشد و تبدیل خطی زیر را در نظر بگیرید:

$$T(f(x)) = xf'(x) - f(x) \quad T: P_n[x] \rightarrow P_n[x]$$

در این صورت، کدام گزاره در مورد تبدیل T صادق است؟

$$P_n[x] = \text{Ker}T \oplus \text{Im}T \quad (۱)$$

(۲) T پوشاست.(۳) T یک‌به‌یک است.

$$\text{Ker}T = \mathbb{R} \quad (۴)$$

۵۱- فرض کنید دنباله $\{a_n\}$ در رابطه $\exists N \forall n \geq N \quad |a_n - a_{n-1}| \leq A_n$ صدق می‌کند. به‌ازای کدام مقدار A_n ، دنباله $\{a_n\}$ ممکن است واگرا باشد؟

$$\frac{1}{n} \quad (۱)$$

$$\frac{1}{n^2} \quad (۲)$$

$$\frac{n}{2^n} \quad (۳)$$

$$\frac{2n+1}{n^4 - n} \quad (۴)$$

۵۲- اگر $A = \left\{ \frac{m}{n} + 4\frac{n}{m} \mid m, n \in \mathbb{N} \right\}$ ، آنگاه کدام گزینه درست است؟

$$\inf A = 0 \quad (۱)$$

$$\inf A = 4 \quad (۲)$$

$$\inf A = 5 \quad (۳)$$

$$\sup A = \infty \quad (۴)$$

۵۳- اگر $A = \left\{ \frac{m}{3^n} \mid m, n \in \mathbb{N} \right\}$ ، آنگاه بستار این مجموعه در \mathbb{R} ، کدام است؟

$$A \quad (۱)$$

$$A \cup \{0\} \quad (۲)$$

$$[0, \infty) \quad (۳)$$

$$\mathbb{Q} \cap [0, \infty) \quad (۴)$$

۵۴- فرض کنید تابع $f: [a, b] \rightarrow \mathbb{R}$ با ضابطه $f(x) = \begin{cases} x & x \in [a, b] \cap \mathbb{Q} \\ -x & x \in [a, b] \cap \mathbb{Q}^c \end{cases}$ تعریف شود. کدام گزینه درست

است؟ (\mathbb{Q} مجموعه اعداد گویا است.)

(۱) چون \mathbb{Q} شمارا است پس f انتگرال پذیر ریمان است و $\int_a^b f(x) dx = \frac{a^2 - b^2}{2}$

(۲) تابع f انتگرال پذیر ریمان است و $\int_a^b f(x) dx = \frac{b^2 - a^2}{2}$

(۳) تابع f انتگرال پذیر ریمان است و $\int_a^b f(x) dx = 0$

(۴) تابع f انتگرال پذیر ریمان نیست.

۵۵- فرض کنید تابع $f: [0, 2] \rightarrow \mathbb{R}$ پیوسته و روی $(0, 2)$ مشتق پذیر باشد و $f(0) = 0, f(1) = 1, f(2) = -1$. کدام یک از اعداد زیر ممکن است در بُرد تابع f' نباشد؟

(۱) $-\frac{4}{3}$

(۲) ۱

(۳) $\frac{3}{2}$

(۴) صفر

۵۶- حجم کره‌ای به شعاع $\frac{7}{5}$ متر را با استفاده از ماشین حسابی که اعداد ماشینی را تا پنج رقم اعشاری با ممیز ثابت

گرد می‌کند، محاسبه می‌کنیم. یا فرض $\pi \cong 3/14159$ ، حداکثر خطای محاسباتی در تعیین حجم کره، کدام است؟

(۱) $0/00006$

(۲) $0/00008$

(۳) $0/0006$

(۴) $0/0008$

۵۷- مرتبه همگرایی دنباله $\{\sqrt[n]{n}\}_{n=1}^{\infty}$ کدام است؟

(۱) ۱

(۲) ۲

(۳) ۳

(۴) ۴

۵۸- ماتریس A را به روش تجزیه LU با محورگیری جزئی به صورت $P_1 A = L P_2 U$ چنان تجزیه می‌کنیم که P_1 و P_2 ماتریس‌های مقدماتی (جایگشتی)، L پایین مثلثی با عناصر قطری واحد و U بالا مثلثی باشند. با فرض

$$A = \begin{bmatrix} 0 & -1 & 2 \\ 1 & 0 & 3 \\ -2 & 0 & 0 \end{bmatrix}, \text{ بردار ستون دوم ماتریس } U \text{ کدام است؟}$$

$$\begin{bmatrix} 1 \\ -1 \\ 0 \end{bmatrix} \quad (۲)$$

$$\begin{bmatrix} 0 \\ 1 \\ 0 \end{bmatrix} \quad (۴)$$

$$\begin{bmatrix} -1 \\ 1 \\ 0 \end{bmatrix} \quad (۱)$$

$$\begin{bmatrix} 0 \\ -1 \\ 0 \end{bmatrix} \quad (۳)$$

۵۹- تابع جدولی $\{(n, 2^n), n \in \mathbb{Z}, |n| \leq 2\}$ مفروض است. مقدار تفاضل منقسم نیوتن مرتبه چهارم تابع جدولی کدام است؟

$$\frac{1}{4} \quad (۱)$$

$$\frac{1}{24} \quad (۲)$$

$$\frac{1}{48} \quad (۳)$$

$$\frac{1}{96} \quad (۴)$$

۶۰- فرض کنید $T(h)$ تقریب $I = \int_0^a (3x^2 - 2x + 1) dx$ با استفاده از دستور ذوزنقه (مرکب) با طول گام h بوده و

$$\left| I - T\left(\frac{1}{4}\right) \right| = \frac{1}{16}.$$
 مقدار $I - T\left(\frac{1}{8}\right)$ کدام است؟

$$\frac{1}{64} \quad (۱)$$

$$\frac{1}{16} \quad (۲)$$

$$-\frac{1}{16} \quad (۳)$$

$$-\frac{1}{64} \quad (۴)$$

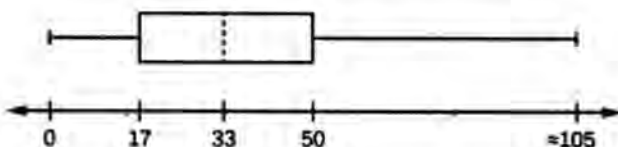
۶۱- نمودار جعبه‌ای زیر، جمعیت یک کشور را برای سال جاری نشان می‌دهد. اگر بدانیم $12/6$ درصد جمعیت بالای ۶۵ سال سن دارند، تقریباً چند درصد از جمعیت بزرگسالان در سن کار (بالای ۱۷ تا ۶۵ سال) هستند؟

$$59/8 \quad (۱)$$

$$62/4 \quad (۲)$$

$$70/6 \quad (۳)$$

$$73/1 \quad (۴)$$



۶۲- برای دو پیشامد E و F اگر $P(E|F) = 1$ ، آنگاه کدام مورد درست است؟

(۱) $P(F|E^c) = 0$

(۲) $P(F^c|E^c) = 0$

(۳) $P(F^c|E^c) = P(F^c)$

(۴) $P(F|E^c) = \frac{1}{4}$

۶۳- انحراف معیار مشاهدات یک نمونه دوتایی برابر $\sqrt{2}$ است. در مورد بُرد آنها چه می توان گفت؟

(۱) برابر $\sqrt{2}$

(۲) کمتر از $\sqrt{2}$

(۳) برابر ۲

(۴) کمتر از ۲

۶۴- فرض کنید احتمال افزایش شاخص سهام یک شرکت برای امروز $0/54$ ، برای فردا نیز $0/54$ و برای هر دو روز $0/28$ باشد. احتمال افزایش شاخص سهام این شرکت در هیچ یک از روزها، کدام است؟

(۱) $0/15$

(۲) $0/20$

(۳) $0/25$

(۴) $0/30$

۶۵- فرض کنید $S = \{1, 2, \dots, N\}$ ، در این صورت نسبت تعداد زیرمجموعه‌های غیرتهی با تعداد زوج به تعداد زیرمجموعه‌های غیرتهی با تعداد فرد از S ، کدام است؟

(۱) $1 - \frac{1}{2^{N-1}}$

(۲) ۱

(۳) $\frac{1}{2^{N+1}}$

(۴) $1 - \frac{1}{2^N}$

آنالیز ریاضی:

۶۶- کدام گزینه یک متر روی \mathbb{R} تعریف می کند؟

(۱) $d(x, y) = e^{|x-y|}$

(۲) $d(x, y) = \ln(1 + |x - y|)$

(۳) $d(x, y) = \begin{cases} x - y & x \geq y \\ 2y - 2x & x < y \end{cases}$

(۴) $d(x, y) = [|x - y|]$ (نماد جزء صحیح است.)

۶۷- دنباله $\{n\}_{n=1}$ با کدام یک از مترهای زیر، روی \mathbb{R} یک دنباله کوشی است؟

$$(۱) d(x, y) = |x - y|$$

$$(۲) d(x, y) = \frac{|x - y|}{1 + |x - y|}$$

$$(۳) d(x, y) = \frac{|x - y|}{\sqrt{1 + x^2} \sqrt{1 + y^2}}$$

$$(۴) d(x, y) = 1 \text{ اگر } x \neq y \text{ و } d(x, y) = 0 \text{ اگر } x = y$$

۶۸- فرض کنید Q (مجموعه اعداد گویا)، مجهز به متر اقلیدسی باشد و $E = \{x \in Q : x^2 < 2\}$. کدام گزینه

در خصوص مجموعه E نسبت به فضای Q نادرست است؟

(۱) مجموعه E باز است.

(۲) مجموعه E بسته است.

(۳) مرز E برابر است با $\{-\sqrt{2}, \sqrt{2}\}$

(۴) هر نقطه E یک نقطه انباشتگی E است.

۶۹- اگر d متر گسسته روی \mathbb{R} باشد، کدام گزینه درباره $[0, 1]$ با این متر، نادرست است؟

(۱) $[0, 1]$ فشرده است.

(۲) $[0, 1]$ باز است.

(۳) $[0, 1]$ بسته است.

(۴) $[0, 1]$ ناهمبند است.

۷۰- فرض کنید دنباله ای کران دار از اعداد حقیقی است و $\alpha = \lim_{n \rightarrow \infty} \inf a_n$ برای هر $\varepsilon > 0$ قرار می دهیم.

$$A_\varepsilon = \{n \in \mathbb{N} : a_n < \alpha - \varepsilon\}$$

$$B_\varepsilon = \{n \in \mathbb{N} : \alpha + \varepsilon < a_n\}$$

کدام گزینه درست است؟

(۱) برای هر $\varepsilon > 0$ ، B_ε نامتناهی است.

(۲) برای هر $\varepsilon > 0$ ، A_ε نامتناهی است.

(۳) برای هر $\varepsilon > 0$ ، B_ε متناهی است.

(۴) برای هر $\varepsilon > 0$ ، A_ε متناهی است.

۷۱- فرض کنید E زیرمجموعه ناتهی از فضای متریک اقلیدسی \mathbb{R} باشد. کدام گزینه نادرست است؟

(۱) اگر E ناشمارا باشد آنگاه $\bar{E} = E'$

(۲) اگر $E \setminus \mathbb{R}$ همبند باشد آنگاه E ناشماراست.

(۳) اگر E' ناشمارا باشد آنگاه E ناشماراست.

(۴) اگر $E \setminus \mathbb{R}$ در \mathbb{R} چگال باشد آنگاه E شماراست.

۷۲- فرض کنید X فضای متریک و تابع $f : X \rightarrow X$ پیوسته باشد. کدام گزینه نادرست است؟

(۱) اگر X فشرده باشد آنگاه $f(X)$ نیز فشرده است.

(۲) اگر X فشرده باشد آنگاه f بر X یکنواخت پیوسته است.

(۳) اگر f بر X یکنواخت پیوسته باشد، آنگاه $f(X)$ کران دار است.

(۴) اگر X همبند باشد آنگاه $f(X)$ نیز همبند است.

۷۳- فرض کنید $f: [0, 1] \rightarrow [0, 1]$ تابعی پیوسته است، کدام گزینه نادرست است؟

(۱) اگر برد f در $[0, 1]$ چگال باشد آنگاه f پوشاست.

(۲) اگر برد f زیرمجموعه اعداد گویا باشد آنگاه f تابع ثابت است.

(۳) اگر برد f زیرمجموعه اعداد گنگ باشد آنگاه f تابع ثابت است.

(۴) اگر برد f در $[0, 1]$ بسته و نامتناهی باشد آنگاه f پوشاست.

۷۴- فرض کنید X و Y دو فضای متریک باشند که تابع دوسویی $f: X \rightarrow Y$ پیوسته است. کدام گزینه درست است؟

(۱) اگر Y فشرده باشد آنگاه f^{-1} پیوسته است.

(۲) اگر X فشرده باشد آنگاه f^{-1} پیوسته است.

(۳) اگر X کران دار باشد آنگاه Y کران دار است.

(۴) اگر Y فشرده باشد آنگاه X فشرده است.

۷۵- کدام تابع بر $[0, +\infty)$ پیوسته یکنواخت نیست؟

$$(۱) f(x) = x(x-1)$$

$$(۲) f(x) = \frac{\sin x}{3 + \sin x}$$

$$(۳) f(x) = \sqrt{x}$$

$$(۴) f(x) = e^{-x^2}$$

۷۶- اگر دنباله توابع حقیقی مقدار $\{f_n\}$ به تابع f بر $[0, 1]$ همگرای یکنواخت باشد، کدام گزینه نادرست است؟

(۱) اگر f_n ها بر $(0, 1)$ مشتق پذیر باشند، آنگاه f نیز بر $(0, 1)$ مشتق پذیر است.

(۲) اگر f_n ها بر $[0, 1]$ پیوسته باشند، آنگاه f نیز بر $[0, 1]$ پیوسته است.

(۳) اگر f_n ها بر $[0, 1]$ انتگرال پذیر باشند، آنگاه f نیز بر $[0, 1]$ انتگرال پذیر است.

(۴) اگر f_n ها بر $[0, 1]$ صعودی باشند، آنگاه f نیز بر $[0, 1]$ صعودی است.

۷۷- فرض کنید تابع $f: [0, 1] \rightarrow \mathbb{R}$ با ضابطه $f(x) = \sum_{n=1}^{\infty} \frac{\sin(nx)}{n^\alpha}$ تعریف شود که $\alpha \in (2, \infty)$. کدام گزینه درست است؟

(۱) f بر $[0, 1]$ پیوسته نیست.

(۲) f بر $[0, 1]$ مشتق پذیر است.

(۳) f بر $[0, 1]$ پیوسته است ولی در هیچ نقطه‌ای مشتق پذیر نیست.

(۴) f بر $[0, 1]$ پیوسته است ولی در برخی از نقاط یازه مشتق پذیر نیست.

۷۸- برای هر عدد طبیعی n ، تابع $f_n: (0, 1) \rightarrow \mathbb{R}$ را با ضابطه $f_n(x) = \begin{cases} 1 & x = \frac{p}{q} \in \mathbb{Q}, q \leq n \\ 0 & \text{در غیر این صورت} \end{cases}$ تعریف می‌کنیم.

کدام گزینه درست است؟

(۱) $\{f_n\}$ دنباله‌ای نزولی است.

(۲) حد نقطه‌وار دنباله توابع $\{f_n\}$ وجود ندارد.

(۳) دنباله $\{f_n\}$ همگرای نقطه‌وار به یک تابع پیوسته است.

(۴) دنباله $\{f_n\}$ همگرای نقطه‌وار به یک تابع انتگرال ناپذیر است.

۷۹- فرض کنیم (X, d) یک فضای متریک فشرده و برای هر $n \in \mathbb{N}$ ، $f_n : X \rightarrow \mathbb{R}$ تابعی پیوسته است. گزاره‌های زیر را در نظر می‌گیریم:

الف - دنباله توابع $\{f_n\}$ بر X همگرای یکنواخت است.

ب - دنباله توابع $\{f_n\}$ بر X همپیوسته و همگرای نقطه‌وار است.

کدام مورد درست است؟

(۱) «الف» و «ب» با هم معادل‌اند.

(۲) «الف»، «ب» را نتیجه می‌دهد اما عکس آن برقرار نیست.

(۳) «ب»، «الف» را نتیجه می‌دهد اما عکس آن برقرار نیست.

(۴) هیچ‌کدام از «الف» یا «ب»، دیگری را نتیجه نمی‌دهد.

۸۰- دنباله $f_n : \mathbb{R}^+ \rightarrow \mathbb{R}$ با ضابطه $f_n(x) = \frac{nx}{n^2 + x}$ تعریف می‌شود که $\mathbb{R}^+ = [0, \infty)$. کدام گزینه برای دنباله

نادرست است؟

(۱) بر \mathbb{R}^+ همگرای یکنواخت است.

(۲) در هر بازه کران‌دار در \mathbb{R}^+ همگرای یکنواخت است.

(۳) بر روی هیچ بازه بی‌کرانی در \mathbb{R}^+ همگرای یکنواخت نیست.

(۴) در هر نقطه‌ای از \mathbb{R}^+ همگرا به صفر است.

۸۱- سری $\sum_{n=1}^{\infty} \frac{x^n}{1+x^n}$ را بر بازه $[0, \infty)$ در نظر می‌گیریم. کدام گزینه درست است؟

(۱) سری بر $[0, 1)$ همگراست ولی بر $[1, \infty)$ واگراست.

(۲) سری در هر نقطه‌ای از $[0, \infty)$ همگراست.

(۳) سری در تمام نقاط $(0, \infty)$ واگراست.

(۴) همگرایی سری بر $[0, 1)$ یکنواخت است.

۸۲- فرض کنید $\{a_n\}$ دنباله‌ای از اعداد صحیح ناصفر است که به‌ازای هر $n \in \mathbb{N}$ ، $n \leq |a_{n+1} - a_n| \leq 2n$. شعاع

همگرایی سری $\sum_{n=0}^{\infty} a_n x^n$ ، کدام است؟

(۱) برابر ۱ است.

(۲) هر عددی در بازه $[1, e]$ می‌تواند باشد.

(۳) هر عددی در بازه $\left[\frac{1}{e}, 1\right]$ می‌تواند باشد.

(۴) هر عددی در بازه $[0, 1]$ می‌تواند باشد.

۸۳- فرض کنید دنباله‌ای از اعداد حقیقی نامنفی باشد. گزاره‌های زیر را در نظر می‌گیریم، $(x \in \mathbb{R})$.

الف) اگر سری $\sum_{n=1}^{\infty} a_n \sin(nx)$ همگرای یکنواخت باشد، آنگاه $\lim_{n \rightarrow \infty} (a_n + \dots + a_{2n}) = 0$

ب) اگر سری $\sum_{n=1}^{\infty} a_n$ همگرا باشد، آنگاه سری $\sum_{n=1}^{\infty} a_n \sin(nx)$ همگرای یکنواخت است.

کدام گزینه درست است؟

(۱) «الف» و «ب» هر دو درست هستند.

(۲) «الف» و «ب» هیچ‌کدام درست نیستند.

(۳) «الف» درست و «ب» نادرست است.

(۴) «الف» نادرست و «ب» درست است.

۸۴- فرض کنید $\{f_n\}$ دنباله‌ای از توابع انتگرال‌پذیر ریمان بر $[a, b]$ است که به تابع f همگرای نقطه‌ای است. از کدام

گزینه نتیجه می‌شود که f بر $[a, b]$ انتگرال‌پذیر ریمان و $\lim_{n \rightarrow \infty} \int_a^b f_n(x) dx = \int_a^b f(x) dx$ است؟

(۱) برای هر n تابع f_n دارای مشتق پیوسته است و دنباله $\{f'_n\}$ بر $[a, b]$ همگرای یکنواخت است.

(۲) برای هر n و هر $x \in [a, b]$ ، $|f_n(x)| \leq 1$.

(۳) برای هر n تابع f_n پیوسته است.

(۴) برای هر n و هر $x \in [a, b]$ ، $f_n(x) \leq f_{n+1}(x)$.

۸۵- فرض کنید دنباله توابع حقیقی مقدار $\{f_n\}$ و $\{g_n\}$ بر مجموعه E همگرای یکنواخت باشند. کدام گزینه درست است؟

(۱) دنباله $\{f_n - g_n\}$ بر E همگرای یکنواخت است.

(۲) دنباله $\{f_n \cdot g_n\}$ بر E همگرای یکنواخت است.

(۳) دنباله $\{f_n\}$ بر E یکنواخت کران‌دار است.

(۴) سری $\sum_{n=1}^{\infty} f_n(x)$ بر E همگرای یکنواخت است.

مبانی جبر و مبانی ترکیبیات:

۸۶- مرتبه عنصر $(5, 8, 10)$ در گروه $G = \mathbb{Z}_{45} \times \mathbb{Z}_{36} \times \mathbb{Z}_{75}$ ، چند است؟

(۱) ۱۴

(۲) ۴۰

(۳) ۱۲۶

(۴) ۴۰۰

۸۷- گروه عناصر وارون‌پذیر حلقه \mathbb{Z}_8 با کدام گروه یکرخت است؟

(۱) گروه دوری از مرتبه ۲

(۲) گروه دوری از مرتبه ۴

(۳) گروه دوری از مرتبه ۷

(۴) گروه چهارتایی کلاین

۸۸- فرض کنید G گروه دوری از مرتبه ۴۸ باشد و نگاشت $\varphi: G \rightarrow G$ با ضابطه $\varphi(g) = g^3$ را در نظر بگیرید. در این صورت کدام مورد درست است؟

$$(1) |\ker \varphi| = 3$$

$$(2) |\operatorname{Im} \varphi| = 3|\ker \varphi|$$

$$(3) |\ker \varphi| = 16$$

$$(4) |\operatorname{Im} \varphi| = 48$$

۸۹- گروه خودریختی‌های \mathbb{Z}_{15} دارای چند عضو است؟

$$(1) 2$$

$$(2) 8$$

$$(3) 15$$

$$(4) 225$$

۹۰- فرض کنید R و S دو حلقه یکدار و $f: R \rightarrow S$ یک هم‌ریختی حلقه‌ای ناصفر باشد. کدام مورد نا درست است؟

(۱) اگر S یک میدان باشد، آنگاه f پوشا است.

(۲) اگر R یک میدان باشد، آنگاه f یک به یک است.

(۳) اگر S جابه‌جایی و f یک به یک باشد، آنگاه R جابه‌جایی است.

(۴) اگر R جابه‌جایی و f پوشا باشد، آنگاه S جابه‌جایی است.

۹۱- برای یک جایگشت $\sigma \in S_n$ از مرتبه زوج، کدام مورد درست است؟

$$(1) \frac{o(\sigma)}{o(\sigma^2)} \text{ زوج است.}$$

(۲) σ یک جایگشت زوج است.

(۳) σ به حاصل ضرب ترانهش‌های مجزا قابل تجزیه است.

(۴) در تجزیه σ به حاصل ضرب دورهای مجزا، فقط دورهای از طول زوج ظاهر می‌شوند.

۹۲- در گروه خارج قسمتی $G = \frac{\mathbb{Q}}{\mathbb{Z}}$ (که صورت و مخرج با جمع متعارف در نظر گرفته شده‌اند) کدام گزاره، نا درست است؟

(۱) G دارای یک دنباله نامتناهی اکیداً صعودی از زیرگروه‌ها به شکل $G_1 \subseteq G_2 \subseteq \dots$ است.

(۲) G دارای زیرگروه سره نامتناهی است.

(۳) G در $(\mathbb{C} - \{0\}, \times)$ می‌نشیند.

(۴) G در $(\mathbb{C}, +)$ می‌نشیند.

۹۳- در حلقه $\mathbb{Z}[x]$ در مورد ایده‌آل‌های $I = \langle 2 \rangle$ و $J = \langle x \rangle$ کدام گزاره درست است؟

(۱) I ماکسیمال و J اول است.

(۲) I اول و J ماکسیمال است.

(۳) I و J هر دو ماکسیمال هستند.

(۴) I و J هر دو اول و غیرماکسیمال هستند.

۹۴- فرض کنید R حلقه‌ای یک‌دار و I ایده‌آلی از آن باشد به طوری که هر عضو I پوچ توان است. اگر $U(R)$ مجموعه اعضای وارون‌پذیر R باشد، آنگاه مجموعه $U(R) + I$ برابر است با:

(۱) R

(۲) I

(۳) $U(R)$

(۴) بسته به حلقه R ، هر یک از گزینه‌ها می‌تواند صحیح باشد.

۹۵- فرض کنید G یک گروه و $H < G$ و $H \neq 1$ ، در این صورت:

(۱) اگر H نامتناهی باشد آنگاه $G - H$ متناهی است.

(۲) اگر $G - H$ متناهی باشد آنگاه G نیز متناهی است.

(۳) اگر $G - H$ متناهی باشد آنگاه G نامتناهی است.

(۴) اگر H متناهی باشد آنگاه $G - H$ متناهی است.

۹۶- به چند طریق می‌توان ۳ توپ مشابه سفید، ۲ توپ مشابه سیاه و ۲ توپ مشابه آبی را در یک ردیف چید، به طوری که ۲ توپ آبی، مجاور نباشند؟

(۱) ۳۶۰

(۲) ۲۱۰

(۳) ۲۰۴

(۴) ۱۵۰

۹۷- مجموعه اعداد ۸ رقمی که فقط از ارقام ۱، ۲ و ۳ تشکیل شده‌اند را A می‌نامیم. تعداد ارقام ۳ به کاررفته در اعضای A ، کدام است؟

(۱) $3^7 \times 8$

(۲) $3^8 \times 8$

(۳) $3^8 - 2^8$

(۴) 8^3

۹۸- به چند طریق می‌توان ۲ خانه از ۲۵ خانه یک جدول 5×5 انتخاب کرد، به طوری که در یک سطر یا در یک ستون، نیاشند؟

(۱) ۱۰۰

(۲) ۲۰۰

(۳) ۳۰۰

(۴) ۴۰۰

۹۹- چند تابع یک به یک مانند f از $\{1, 2, \dots, 11\}$ به $\{1, 2, \dots, 25\}$ وجود دارد، به طوری که به ازای هر $k \in \{1, 2, \dots, 11\}$ عدد $k + f(k)$ فرد باشد؟

(۲) $\frac{13! \times 12!}{(7!)^2}$

(۱) $\frac{13! \times 12!}{(7!)^2 \times 6! \times 5!}$

(۴) $\frac{13! \times 12!}{8! \times 6!}$

(۳) $\frac{13! \times 12!}{(8!)^2 \times (6!)^2 \times 5!}$

۱۰۰- تابع مولد دنباله زیر کدام است؟

$$a_n = \begin{cases} n \geq 0 & \text{زوج} : 2 \\ n \geq 0 & \text{فرد} : 3 \end{cases}$$

(۱) $\frac{2+3x}{1-x}$

(۲) $\frac{3+2x}{1-x}$

(۳) $\frac{2+3x}{1-x^2}$

(۴) $\frac{3+2x}{1-x^2}$

۱۰۱- ۳۰ مهره سفید دوه‌دو غیرمشابه و ۳ مهره سیاه مشابه داریم. به چند طریق می‌توان این ۳۳ مهره را دور یک دایره چید به طوری که میان هر دو مهره سیاه، ۱۰ مهره سفید به‌طور متوالی، قرار بگیرند؟

(۱) $\frac{30!}{10}$

(۲) $\frac{30!}{3}$

(۳) $29! \times 3$

(۴) $\frac{29!}{10}$

۱۰۲- گراف کامل ۸ رأسی، چند زیرگراف یکرخت (همسان) با گراف زیر دارد؟

(۱) ۳۱۵

(۲) ۶۳۰

(۳) ۱۲۶۰

(۴) ۲۵۲۰

۱۰۳- G یک گراف ۴-منتظم (درجه هر رأس ۴) با ۱۲ رأس است. G چند مسیر با ۳ رأس دارد؟

(۱) به ساختار G بستگی دارد.

(۲) ۴۸

(۳) ۷۲

(۴) ۱۴۴

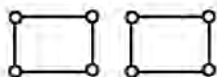
۱۰۴- به چند طریق می‌توان ۱۶ پله را با قدم‌های یک و دو پله‌ای طی کرد، به طوری که پله هشتم با قدم یک پله‌ای، طی شود؟

(۱) ۷۱۴

(۲) ۹۸۷

(۳) ۱۱۵۶

(۴) ۱۵۹۶



۱۰۵- فرض کنید: $n = 0, 1, 2, \dots$ و تعداد حالات پیمودن n پله یا قدم‌های ۲ پله‌ای و ۳ پله‌ای a_n . کدام مورد درست است؟

(۱) $a_0 = 0$ تعریف نشده و $a_1 = 0$

(۲) $a_0 = 0$ و $a_1 = 0$

(۳) $a_0 = 1$ و $a_1 = 0$

(۴) $a_0 = 1$ تعریف نشده و $a_1 = 0$

جبر خطی عددی، بهینه‌سازی خطی و نظریه مقدماتی معادلات دیفرانسیل:

۱۰۶- فرض کنید A یک ماتریس مربعی باشد. کدام مورد نادرست است؟

(۱) مقادیر ویژه یک ماتریس مثبت معین، نامنفی هستند.

(۲) $A^T A$ یک ماتریس نیمه‌مثبت معین است.

(۳) اگر A یک ماتریس مثبت معین باشد، آنگاه $\{A_{ij}, i = 1, 2, \dots, n\}$ $\text{tr}(A) > \min$ است.

(۴) اگر A یک ماتریس مثبت معین باشد، آنگاه زاویهٔ بین بردارهای x و Ax کوچک‌تر از $\frac{\pi}{4}$ است.

۱۰۷- فرض کنید $A = (a_{ij})$ ، یک ماتریس $n \times n$ معکوس‌پذیر با معکوس $C = (c_{ij})$ باشد. در حل دستگاه $Ax = b$ ، کدام مورد درست است؟

(۱) بروز اختلال به اندازهٔ δ در a_{jk} ، باعث ایجاد اختلال تقریباً به اندازهٔ $\delta c_{ij} x_j$ در x_i می‌شود.

(۲) بروز اختلال به اندازهٔ δ در a_{jk} ، باعث ایجاد اختلال تقریباً به اندازهٔ $\delta c_{jk} x_k$ در x_i می‌شود.

(۳) بروز اختلال به اندازهٔ δ در b_j ، باعث ایجاد اختلال $(\sum_{i=1}^n c_{ij})\delta$ در x_i می‌شود.

(۴) بروز اختلال به اندازهٔ δ در b_j ، باعث ایجاد اختلال $c_{ij}\delta$ در x_i می‌شود.

۱۰۸- مسئلهٔ کمترین مربعات خطی $\|Ax - b\|_p$ که در آن، A یک ماتریس $m \times n$ با $(m > n)$ است را در نظر بگیرید. با

استفاده از تجزیهٔ QR ماتریس A به صورت $Q^T A = R = \begin{pmatrix} R_1 \\ 0 \end{pmatrix}$ و $Q^T b = \begin{pmatrix} c \\ d \end{pmatrix}$ ، کدام مورد برای جواب مسئله

درست است؟

(۱) اگر $R_1 x = c$ ، آنگاه $\|d\|_p = \|Ax - b\|_p$ کمترین است.

(۲) اگر $R_1 x = c$ ، آنگاه $\|Ax - b\|_p = 0$.

(۳) اگر $R_1 x = c$ ، آنگاه $d \neq 0$ و $\|Ax - b\|_p$ کمترین است.

(۴) اگر $d \neq 0$ و $Q^T Ax = b$ ، آنگاه $\|Ax - b\|_p$ کمترین است.

۱۰۹- تجزیه LU کدام ماتریس وجود ندارد؟

$$\begin{array}{l} \begin{bmatrix} -1 & 0 & 2 \\ 0 & -1 & -1 \\ 2 & -1 & 1 \end{bmatrix} \quad (۲) \\ \begin{bmatrix} 1 & -1 & 0 \\ 1 & 1 & 2 \\ 0 & -2 & 1 \end{bmatrix} \quad (۴) \end{array}$$

$$\begin{array}{l} \begin{bmatrix} -1 & 0 & 2 \\ 0 & 1 & -1 \\ 2 & -1 & 1 \end{bmatrix} \quad (۱) \\ \begin{bmatrix} 1 & -1 & 0 \\ -1 & 1 & 2 \\ 0 & 2 & 1 \end{bmatrix} \quad (۳) \end{array}$$

۱۱۰- فرض کنید $A = \begin{bmatrix} 1 & 2 & 8 \\ 8 & -2 & 0 \\ -2 & -5 & -1 \end{bmatrix}$ و $b = \begin{bmatrix} 0 \\ 18 \\ 1 \end{bmatrix}$. برای حل دستگاه معادلات $Ax = b$ از روش تکرار گاوس - سایدل

با بردار آغازین $x^{(0)} = \begin{pmatrix} 1 \\ -1 \\ 1 \end{pmatrix}$ و حاصل ضرب ماتریس‌های جایگشت چنان عمل می‌کنیم که الگوریتم حل برای حل

دستگاه $EAx = Eb$ همگرا باشد. بردار $x^{(1)}$ کدام است؟ (E حاصل ضرب ماتریس‌های جایگشت است).

$$\begin{pmatrix} 2 \\ -0.8 \\ 0.125 \end{pmatrix} \quad (۱)$$

$$\begin{pmatrix} 2 \\ -1.2 \\ 0.05 \end{pmatrix} \quad (۲)$$

$$\begin{pmatrix} -4 \\ -7 \\ -42 \end{pmatrix} \quad (۳)$$

$$\begin{pmatrix} -4 \\ 13 \\ 2 \end{pmatrix} \quad (۴)$$

۱۱۱- فرض کنید $A = \begin{bmatrix} -2 & 1 & -1 \\ 1 & 3 & 0 \\ 5 & 4 & 2 \end{bmatrix}$ و $Q = \begin{bmatrix} a & 0 & 0 \\ b & c & d \\ 0 & e & f \end{bmatrix}$. یک ماتریس متعامد باشد، به طوری که درایه واقع در سطر

سوم و ستون دوم ماتریس QA صفر باشد. مقدار $a^2 + c^2 + e^2$ کدام است؟

۴ (۱)

۳ (۲)

۲ (۳)

۱ (۴)

۱۱۲- فرض کنید $Q_{3 \times 3}$ ماتریس متعامد هاوس هولدری باشد، که $Q = \begin{bmatrix} 0 & 3 & 2 \\ -3 & 1 & 2 \\ 4 & 0 & 4 \end{bmatrix} = \begin{bmatrix} * & * & * \\ 0 & * & * \\ 0 & * & * \end{bmatrix}$ سطر اول ماتریس

Q کدام است؟

(۱) $(0 \quad -0.36 \quad 0.64)$

(۲) $(0 \quad 0.64 \quad 0.36)$

(۳) $(0.8 \quad 0 \quad 0.6)$

(۴) $(0 \quad -0.6 \quad 0.8)$

۱۱۳- برای مسئله برنامه‌ریزی خطی زیر، کدام مورد درست است؟ ($\alpha \in \mathbb{R}$ یک عدد مثبت است.)

$$\begin{aligned} \text{Min} \quad & -\sum_{j=1}^n x_j \\ \text{s.t.} \quad & Ax \leq 0 \\ & \sum_{j=1}^n x_j \leq \alpha \\ & x \geq 0 \end{aligned}$$

(۱) مسئله بی‌کران است.

(۲) مقدار بهینه مسئله، $-\alpha$ است.

(۳) مقدار بهینه مسئله، در بازه $(-\alpha, 0)$ قرار دارد.

(۴) مقدار بهینه مسئله، صفر یا $-\alpha$ است.

۱۱۴- فرض کنید A یک ماتریس $m \times n$ و چندوجهی $P = \{x \in \mathbb{R}^n; Ax \leq b\}$ ناتهی باشد. در این صورت، P دارای

نقطه‌رأسی است اگر و تنها اگر

(۱) $m \geq n$

(۲) $\text{rank}(A) = n$

(۳) $m \leq n$

(۴) $\text{rank}(A) = m$

۱۱۵- کدام مورد درست است؟

(۱) اگر اشتراک تعداد متناهی نیم‌فضا ناتهی شود، آنگاه اشتراک آنها لزوماً نقطه‌رأسی ندارد.

(۲) اگر یک چندوجهی در \mathbb{R}^n ($n \geq 3$) نقطه‌رأسی تباهیده داشته باشد، آنگاه قید زائد هندسی دارد.

(۳) اگر یک چندوجهی در \mathbb{R}^2 نقطه‌رأسی تباهیده داشته باشد، آنگاه قید زائد هندسی دارد.

(۴) اگر یک چندوجهی در \mathbb{R}^n قید زائد هندسی داشته باشد، آنگاه نقطه‌رأسی تباهیده دارد.

۱۱۶- برای مقدار بهینه سه مسئله زیر، کدام مورد درست است؟ ($e \in \mathbb{R}^{1 \times n}$ بردار سطری است که همه مؤلفه‌های آن یک است.)

$$\begin{aligned} z_1 = \text{Min } ex \\ \text{s.t. } Ax \leq b \\ ex \leq 1 \\ x \geq 0 \end{aligned}$$

$$\begin{aligned} z_2 = \text{Min } ex \\ \text{s.t. } Ax \leq b \\ ex \geq 1 \\ x \geq 0 \end{aligned}$$

$$\begin{aligned} z_3 = \text{Min } ex \\ \text{s.t. } Ax \leq b \\ ex = 1 \\ x \geq 0 \end{aligned}$$

(۲) $z_2 = \min \{z_1, z_3\}$

(۱) $z_3 = \min \{z_1, z_2\}$

(۴) $z_2 = \max \{z_1, z_3\}$

(۳) $z_3 = \max \{z_1, z_2\}$

۱۱۷- شرط لازم و کافی برای آن که نقطه $\bar{x} = \begin{pmatrix} 0 \\ 2 \end{pmatrix}$ برای مسئله برنامه‌ریزی خطی زیر بهینه باشد، کدام است؟

$$\begin{aligned} \text{Max } & c_1 x_1 + c_2 x_2 \\ \text{s.t. } & |-x_1 + x_2| \leq 2 \\ & x_1, x_2 \geq 0 \end{aligned}$$

(۱) (c_1, c_2) یک ضریب نامنفی از $(-1, 1)$ باشد.

(۲) (c_1, c_2) یک ضریب نامنفی از $(1, -1)$ باشد.

(۳) (c_1, c_2) یک ترکیب خطی نامنفی از بردارهای $(1, -1)$ و $(1, 0)$ باشد.

(۴) (c_1, c_2) یک ترکیب خطی نامنفی از بردارهای $(-1, 1)$ و $(-1, 0)$ باشد.

۱۱۸- در روش دوفازی برای حل مسئله برنامه‌ریزی خطی زیر، اگر در جدول پایانی فاز I، ستون مربوط به متغیر x_2 را با $y_2 = B^{-1}a_2$ و بردار سمت راست را با $\bar{b} = B^{-1}b$ نمایش دهیم، آنگاه کدام مورد درست است؟

$$\begin{aligned} \text{Min } & x_1 - 3x_2 \\ \text{s.t. } & 3x_1 + 4x_2 \leq 12 \\ & x_1 - x_2 \geq 2 \\ & x_1, x_2 \geq 0 \end{aligned}$$

$$\bar{b} = \begin{pmatrix} 12 \\ 2 \end{pmatrix} \text{ و } y_2 = \begin{pmatrix} 7 \\ -1 \end{pmatrix} \quad (۲)$$

$$\bar{b} = \begin{pmatrix} 12 \\ 2 \end{pmatrix} \text{ و } y_2 = \begin{pmatrix} 1 \\ 0 \end{pmatrix} \quad (۱)$$

$$\bar{b} = \begin{pmatrix} 6 \\ 2 \end{pmatrix} \text{ و } y_2 = \begin{pmatrix} 1 \\ 0 \end{pmatrix} \quad (۴)$$

$$\bar{b} = \begin{pmatrix} 6 \\ 2 \end{pmatrix} \text{ و } y_2 = \begin{pmatrix} 7 \\ -1 \end{pmatrix} \quad (۳)$$

۱۱۹- مسئله برنامه‌ریزی خطی زیر، مفروض است که در آن، A یک ماتریس $n \times n$ مربعی متقارن است. کدام مورد درست است؟

$$\begin{aligned} \text{Min } & cx \\ \text{s.t. } & Ax = c \\ & x \geq 0 \end{aligned}$$

(۱) ناحیه شدنی، تک نقطه است.

(۲) در صورت وجود نقاط شدنی، هر نقطه شدنی بهینه است.

(۳) مسئله، جواب بهینه دگرین دارد.

(۴) مسئله، بی کران است.

۱۲۰- کدام مورد، نادرست است؟

(۱) تبدیل مسئله اولیه ماکزیمم‌سازی به مینیمم‌سازی، علامت متغیرهای دوگان مکمل را تغییر نمی‌دهد.

(۲) کنار گذاشتن یک محدودیت زائد هندسی، با صفر قرار دادن متغیر دوگان مکمل، معادل است.

(۳) یک متغیر از مجموعه بهینه اولیه، نامتناهی است اگر و فقط اگر، متغیر دوگان مکمل آن، در تمام جواب‌های شدنی دوگان، صفر باشد.

(۴) یک متغیر، در تمام جواب‌های اولیه صفر است اگر و تنها اگر متغیر دوگان مکمل آن، در یک جواب بهینه دوگان، مثبت باشد.

۱۲۱- کدام مورد برای جواب‌های معادله دیفرانسیل $x \in \mathbb{R}$ و $y' = \max\{1, y\}$ ، با شرط اولیه $y(0) = 1$ ، درست است؟
 (۱) معادله دیفرانسیل فاقد جواب است.

(۲) معادله دیفرانسیل دارای جواب منحصر به فرد $y(x) = e^x$ است.

(۳) معادله دیفرانسیل دارای جواب منحصر به فرد است.

(۴) معادله دیفرانسیل بی‌شمار جواب دارد.

۱۲۲- فرض کنید $y(x)$ یک جواب غیر صفر معادله دیفرانسیل $e^x y'' - e^x y = 0$ باشد. در خصوص تابع y کدام مورد درست است؟

(۱) حداکثر یک ریشه حقیقی دارد.

(۲) دقیقاً دو ریشه حقیقی دارد.

(۳) حداقل دو ریشه حقیقی دارد.

(۴) بی‌شمار ریشه حقیقی دارد.

۱۲۳- فرض کنید $x(t) = \begin{pmatrix} x_1(t) \\ x_2(t) \end{pmatrix}$. کدام مورد درست است؟

(۱) مبدأ مختصات یک نقطه زینی برای دستگاه معادلات $x'(t) = \begin{pmatrix} -1 & -1 \\ 2 & 1 \end{pmatrix} x(t)$ است.

(۲) مبدأ مختصات یک نقطه گره برای دستگاه معادلات $x'(t) = \begin{pmatrix} -1 & -1 \\ 2 & 1 \end{pmatrix} x(t)$ است.

(۳) مبدأ مختصات یک نقطه گره برای دستگاه معادلات $x'(t) = \begin{pmatrix} -1 & 0 \\ 2 & 1 \end{pmatrix} x(t)$ است.

(۴) مبدأ مختصات یک نقطه زینی برای دستگاه معادلات $x'(t) = \begin{pmatrix} -1 & 0 \\ 2 & 1 \end{pmatrix} x(t)$ است.

۱۲۴- دستگاه معادلات دیفرانسیل $\begin{cases} x' = x(1-2y) \\ y' = y(-3+2x) \end{cases}$ ، $x > 0, y > 0$ مفروض است. کدام مورد درست است؟

(۱) $(\frac{3}{2}, \frac{1}{2})$ یک نقطه ناپایدار دستگاه است.

(۲) $(\frac{3}{2}, \frac{1}{2})$ یک نقطه پایدار دستگاه است، لیکن به‌طور مجانبی پایدار نیست.

(۳) $(0, 0)$ یک نقطه به‌طور مجانبی پایدار دستگاه است.

(۴) $(0, 0)$ یک نقطه پایدار دستگاه است، لیکن به‌طور مجانبی پایدار نیست.

۱۲۵- تابع هامیلتونی متناظر با دستگاه معادلات دیفرانسیل $\begin{cases} x' = x(1-2y) \\ y' = y(-3+2x) \end{cases}$ ، $x > 0, y > 0$ کدام است؟

$$(1) -x - 3y + 2 \ln x + 2 \ln y$$

$$(2) 2x - 3y - 2 \ln x + \ln y$$

$$(3) 2x + 2y - 3 \ln x - \ln y$$

$$(4) 3x + y - 2 \ln x - 2 \ln y$$

احتمال (۱ و ۲) و فرایندهای تصادفی ا:

۱۲۶- یک چوب به طول L در اختیار داریم و آن را در نقطه‌ای که به‌طور تصادفی و یکنواخت انتخاب شده است، می‌شکنیم و قطعه‌ای را که انتهای سمت چپ چوب است نگه می‌داریم. سپس همین کار را با چوبی که نگه می‌داریم تکرار می‌کنیم. مقدار مورد انتظار چوبی که باقی می‌ماند کدام است؟

(۱) $\frac{L}{2}$

(۲) $\frac{L}{4}$

(۳) $\frac{3L}{4}$

(۴) $\frac{L}{6}$

۱۲۷- فرض کنید X_1, \dots, X_n یک نمونه تصادفی از توزیع $N(0, \sigma^2)$ و $T^2 = \frac{1}{n} \sum X_i^2$ باشد، به‌طور تقریبی $P(T > \sigma)$ کدام است؟

(۱) $\frac{1}{4}$

(۲) $\frac{1}{2}$

(۳) $\frac{\sigma}{4}$

(۴) $\frac{\sigma}{2}$

۱۲۸- اگر X یک متغیر تصادفی نامنفی با $E(X) = a$ باشد، در مورد $E(\sqrt{X})$ چه می‌توان گفت؟

(۱) $E(\sqrt{X}) \leq \sqrt{a}$

(۲) $E(\sqrt{X}) \geq \sqrt{a}$

(۳) $E(\sqrt{X}) \leq a$

(۴) $E(\sqrt{X}) \geq a$

۱۲۹- فرض کنید (X, Y) دارای چگالی توأم $f(x, y) = e^{-2x - \frac{y}{2}}$, $x, y > 0$ باشند. مقدار $E(X - Y)^2$ چقدر است؟

(۱) $\frac{7}{2}$

(۲) $\frac{9}{2}$

(۳) $\frac{11}{2}$

(۴) $\frac{13}{2}$

۱۳۰- اگر X_1, X_2, X_3 یک نمونه تصادفی از توزیعی با تابع احتمال زیر باشد و $T = X_1 X_2 X_3$ مقدار $\text{Var}(T)$ ، کدام است؟

x	-۱	۰	۱
$f(x)$	$\frac{1}{4}$	$\frac{1}{2}$	$\frac{1}{4}$

$$\frac{5}{64} \quad (۱)$$

$$\frac{6}{64} \quad (۲)$$

$$\frac{7}{64} \quad (۳)$$

$$\frac{8}{64} \quad (۴)$$

۱۳۱- فرض کنید متغیر تصادفی X مقادیر $1, 2, 3, \dots, n$ را با احتمال‌های برابر اختیار می‌کند. اگر میانگین و واریانس X باهم برابر باشند، مقدار n ، کدام است؟

$$۱۴ \quad (۱)$$

$$۱۲ \quad (۲)$$

$$۷ \quad (۳)$$

$$۶ \quad (۴)$$

۱۳۲- یک مدرسه موسیقی یک پیانو را به قیمت ۳۰۰۰ دلار، یک گیتار را به قیمت ۵۵۰ دلار و یک ویلن را به قیمت ۶۰۰ دلار خریداری کرده است. اگر میانگین قیمت یک پیانو ۴۰۰۰ دلار با انحراف معیار ۲۵۰۰، میانگین قیمت یک گیتار ۵۰۰ دلار با انحراف معیار ۲۰۰ و میانگین قیمت ویلن ۷۰۰ دلار با انحراف معیار ۱۰۰ باشد، به ترتیب از راست به چپ کدام ابزار را ارزان و کدام را گران خریده است؟

(۱) ویلن - گیتار

(۲) گیتار - پیانو

(۳) گیتار - ویلن

(۴) پیانو - ویلن

۱۳۳- شش وجه یک تاس شامل اعداد ۲، ۲، ۳، ۴، ۵، ۶ هستند. تاس را چهار مرتبه پرتاب می‌کنیم. احتمال اینکه یک مرتبه وجه ۲، یک مرتبه وجه ۳ و دو مرتبه وجه ۴ مشاهده شود، چقدر است؟

$$\frac{1}{34} \quad (۱)$$

$$\frac{1}{44} \quad (۲)$$

$$\frac{1}{54} \quad (۳)$$

$$\frac{1}{64} \quad (۴)$$

۱۳۴- فرض کنید X یک متغیر تصادفی گسسته با تابع مولد گشتاور $M(t) = \frac{14 + e^{-t} + e^t}{16}$ باشد. مقدار $P(X \geq 0)$ کدام است؟

(۱) $\frac{14}{16}$

(۲) $\frac{15}{16}$

(۳) $\frac{13}{16}$

(۴) $\frac{12}{16}$

۱۳۵- از توزیع $N(0, 1)$ ، تعداد ۵ مشاهده به تصادف انتخاب می‌کنیم. احتمال این که حداقل دو تا از این مشاهده‌ها مثبت باشند، کدام است؟

(۱) $\frac{18}{32}$

(۲) $\frac{26}{32}$

(۳) $\frac{30}{32}$

(۴) $\frac{22}{32}$

۱۳۶- فرض کنید $x > 0$ ، $F_X(x) = 1 - e^{-x^2}$ و $Y = [X]$ (جزء صحیح X)، در این صورت $P(Y > 2)$ ، کدام است؟

(۱) e^{-25}

(۲) e^{-16}

(۳) e^{-9}

(۴) e^{-4}

۱۳۷- اگر $X_1, X_2, \dots, X_n \sim N(\mu, \sigma^2)$ iid و $T = \frac{1}{25} \sum_{i=1}^{25} I(X_i \geq \mu)$ ، مقدار تقریبی $P(T > 0.696)$ ، کدام است؟

(۱) ۰/۰۱

(۲) ۰/۰۵

(۳) ۰/۰۲۵

(۴) ۰/۱

۱۳۸- برای متغیر تصادفی گسسته X که اعداد صحیح نامنفی را اختیار می‌کند، رابطه $\frac{P(X=x)}{P(X=x+1)} = \frac{1}{a}$ برقرار است،

واریانس X کدام است؟

(۱) $a(1-a)^2$

(۲) $a(1-a)$

(۳) $\frac{1-a}{a}$

(۴) $\frac{a}{(1-a)^2}$

۱۳۹- اگر X_1 و X_2 یک نمونه تصادفی دوتایی از توزیعی با میانگین صفر و واریانس ۲ باشند، در این صورت در مورد $R = \max(X_1, X_2) - \min(X_1, X_2)$ چه می‌توان گفت؟

(۱) $E(R) \leq 2$

(۲) $E(R) \geq 2$

(۳) $E(R) \leq \sqrt{2}$

(۴) $E(R) \geq \sqrt{2}$

۱۴۰- تعداد خرابی‌های یک خودپرداز در هر روز از فرایند پواسون با نرخ $\lambda = 1$ پیروی می‌کند. احتمال این که خودپرداز در طی یک هفته فقط یک روز خراب باشد. کدام است؟

(۱) $7e^{-6}(1-e^{-1})$

(۲) $5e^{-1}(1-e^{-1})^4$

(۳) $7e^{-1}(1-e^{-1})^6$

(۴) $5e^{-5}(1-e^{-1})$

۱۴۱- در یک فرایند مارکوف همگن با فضای وضعیت $S = \{2, 5\}$ و ماتریس احتمال انتقال $P = \begin{bmatrix} 0.3 & 0.7 \\ 0.6 & 0.4 \end{bmatrix}$ ، فرض

کنید $P(X_0 = 2) = 0.4$ در این صورت مقدار $E(X_2)$ کدام است؟

(۱) $3/12$

(۲) $3/63$

(۳) $3/85$

(۴) $4/11$

۱۴۲- فرایند گام‌برداری تصادفی (قدم زدن تصادفی) $\{X_n : n \geq 1\}$ با $X_0 = 0$ را در نظر بگیرید که در آن

$X_n = \sum_{i=1}^n Y_i$ و $\{Y_n : n \geq 1\}$ دنباله‌ای از متغیرهای تصادفی مستقل و هم‌توزیع با تابع احتمال توأم

$$P(Y_1 = 3) = \frac{3}{4} \text{ و } P(Y_1 = -2) = \frac{1}{4}$$

$$\text{مقدار } P\left(\frac{X_{n+5} + 2}{X_{n+2} + 6} > 1\right) \text{ برابر است با:}$$

$$\left(\frac{1}{4}\right)^2 \quad (1)$$

$$\left(\frac{3}{4}\right)^2 \quad (2)$$

$$\left(\frac{1}{4}\right)^3 \quad (3)$$

$$\left(\frac{3}{4}\right)^3 \quad (4)$$

۱۴۳- یک فرایند مارکوف همگن با فضای وضعیت $S = \{1, 2, 3, 4, 5\}$ و ماتریس احتمال انتقال زیر را در نظر بگیرید.

$$P = \begin{bmatrix} 0/2 & 0 & 0/8 & 0 & 0 \\ 0/1 & 0/3 & 0 & 0/2 & 0/4 \\ 0/3 & 0 & 0/7 & 0 & 0 \\ 0 & 0 & 0 & 0/6 & 0/4 \\ 0 & 0 & 0 & 0/5 & 0/5 \end{bmatrix}$$

کدام وضعیت‌ها، هم جاذب و هم بازگشتی هستند؟

$$(1) \text{ وضعیت } \{2\}$$

$$(2) \text{ وضعیت } \{2, 4\}$$

$$(3) \text{ وضعیت } \{1, 3\}$$

$$(4) \text{ وضعیت } \{2, 3\}$$

۱۴۴- فرض کنید $X_n = \sum_{i=1}^n Y_i$ اندازه یک جمعیت در زمان n باشد که در آن Y_i ها متغیرهای تصادفی مستقل پواسون

با میانگین $1/5$ هستند. مقدار $P(X_{n+1} = 5 | X_n = 3)$ ، کدام است؟

$$\frac{e^{-1/5} (1/5)^5}{5!} \quad (1)$$

$$\frac{e^{-4/5} (4/5)^5}{5!} \quad (2)$$

$$\frac{e^{-4/5} (4/5)^2}{2!} \quad (3)$$

$$\frac{e^{-1/5} (1/5)^2}{2!} \quad (4)$$

۱۴۵- اگر N تعداد ادعاهای خسارت از یک شرکت بیمه در یک ماه دارای توزیع پواسون با نرخ ۵ ادعا در ماه و X_i مبلغ خسارت i امین ادعا دارای توزیع نرمال با میانگین ۵۰۰ و انحراف معیار ۱۰۰ واحد پولی باشد. در این صورت امید ریاضی کل خسارت پرداختی این شرکت در یک سال کدام است؟

(۱) ۱۵,۰۰۰

(۲) ۲۰,۰۰۰

(۳) ۲۵,۰۰۰

(۴) ۳۰,۰۰۰



کد دفترچه			عنوان دفترچه						مجموعه امتحانی	
۵۳۴C			دروس اختصاصی						۱۲۰۸ - ریاضی	
شماره سوال	گزینه صحیح	شماره سوال	گزینه صحیح	شماره سوال	گزینه صحیح	شماره سوال	گزینه صحیح	شماره سوال	گزینه صحیح	
۱	۲	۳۱	۲	۶۱	۲	۹۱	۱	۱۲۱	۳	
۲	۱	۳۲	۴	۶۲	۱	۹۲	۴	۱۲۲	۱	
۳	۴	۳۳	۱	۶۳	۳	۹۳	۴	۱۲۳	۴	
۴	۳	۳۴	۳	۶۴	۲	۹۴	۳	۱۲۴	۲	
۵	۱	۳۵	۱	۶۵	۱	۹۵	۲	۱۲۵	۳	
۶	۳	۳۶	۴	۶۶	۲	۹۶	۴	۱۲۶	۲	
۷	۴	۳۷	۲	۶۷	۳	۹۷	۱	۱۲۷	۲	
۸	۲	۳۸	۱	۶۸	۳	۹۸	۲	۱۲۸	۱	
۹	۱	۳۹	۳	۶۹	۱	۹۹	۴	۱۲۹	۴	
۱۰	۲	۴۰	۲	۷۰	۴	۱۰۰	۳	۱۳۰	۳	
۱۱	۱	۴۱	۴	۷۱	۲	۱۰۱	۲	۱۳۱	۳	
۱۲	۲	۴۲	۳	۷۲	۳	۱۰۲	۱	۱۳۲	۱	
۱۳	۴	۴۳	۱	۷۳	۴	۱۰۳	۳	۱۳۳	۳	
۱۴	۱	۴۴	۳	۷۴	۲	۱۰۴	۱	۱۳۴	۲	
۱۵	۳	۴۵	۱	۷۵	۱	۱۰۵	۳	۱۳۵	۲	
۱۶	۲	۴۶	۱	۷۶	۱	۱۰۶	۱	۱۳۶	۳	
۱۷	۱	۴۷	۴	۷۷	۲	۱۰۷	۴	۱۳۷	۳	
۱۸	۴	۴۸	۲	۷۸	۴	۱۰۸	۱	۱۳۸	۴	
۱۹	۲	۴۹	۳	۷۹	۱	۱۰۹	۳	۱۳۹	۱	
۲۰	۴	۵۰	۱	۸۰	۱	۱۱۰	۲	۱۴۰	۱	
۲۱	۳	۵۱	۱	۸۱	۱	۱۱۱	۳	۱۴۱	۲	
۲۲	۴	۵۲	۲	۸۲	۱	۱۱۲	۴	۱۴۲	۴	
۲۳	۳	۵۳	۳	۸۳	۱	۱۱۳	۴	۱۴۳	۳	
۲۴	۱	۵۴	۴	۸۴	۱	۱۱۴	۲	۱۴۴	۳	
۲۵	۳	۵۵	۳	۸۵	۱	۱۱۵	۱	۱۴۵	۴	
۲۶	۱	۵۶	۲	۸۶	۳	۱۱۶	۳			
۲۷	۴	۵۷	۱	۸۷	۴	۱۱۷	۴			
۲۸	۲	۵۸	۳	۸۸	۱	۱۱۸	۳			
۲۹	۴	۵۹	۴	۸۹	۲	۱۱۹	۲			
۳۰	۳	۶۰	۴	۹۰	۱	۱۲۰	۱			